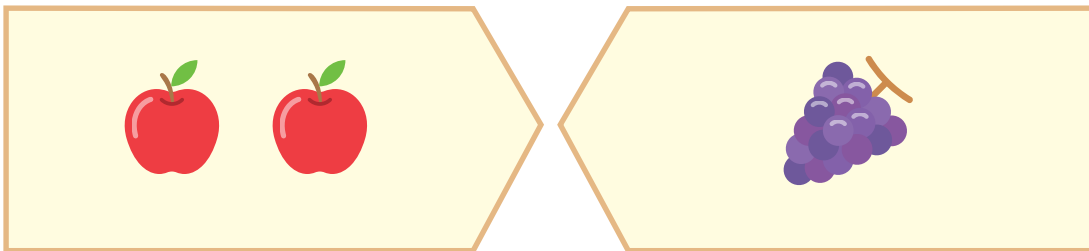


あわせていくつ でしょう。

1 りんごが 2こ、ぶどうが 1こ あります。

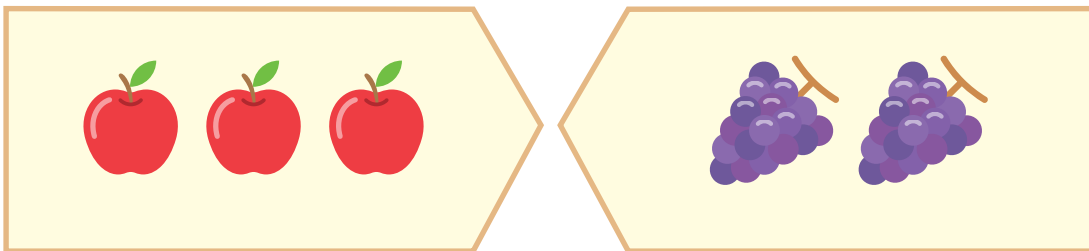


こたえ

3

こたえ

2 りんごが 3こ、ぶどうが 2こ あります。




こたえ

5

こたえ

3 りんごが 4こ、ぶどうが 2こ あります。




こたえ

6

こたえ

4 りんごが 4こ、ぶどうが 3こ あります。



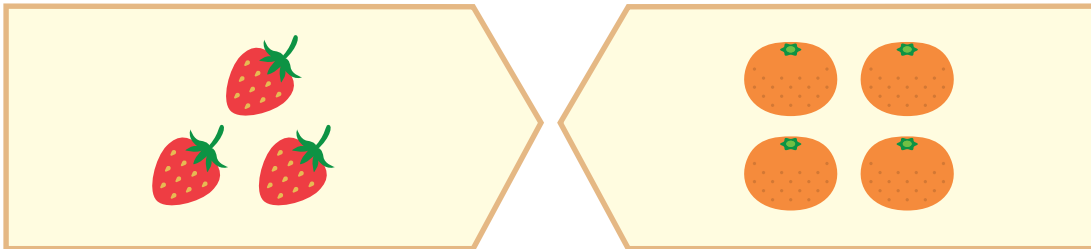
こたえ

7

こたえ

あわせて いくつ でしょう。


1 いちごが 3こ、みかんが 4こ あります。



こたえ
7

り

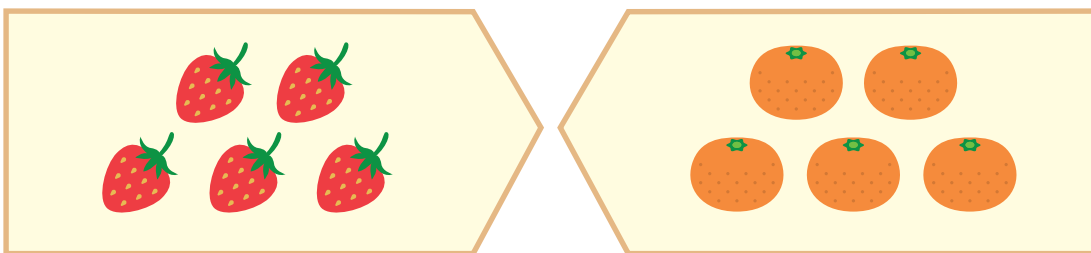
2 いちごが 7こ、みかんが 2こ あります。



こたえ
9

り


3 いちごが 5こ、みかんが 5こ あります。



こたえ
10

り

4 いちごが 5こ、みかんが 3こ あります。



こたえ
8

り

小
一

さんすうもんだい

あわせていくつ/ふえるといくつ

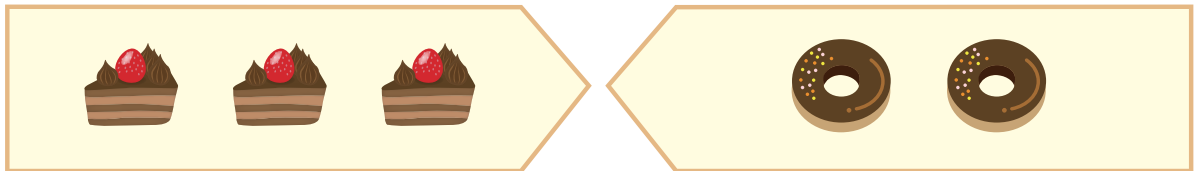
がつ にち

なまえ

けーきと どーなつは あわせて いくつに なりますか。

にかずを 入れて しきと こたえを かきましょう。

1



けーき

どーなつ

しき

3

+

2

=

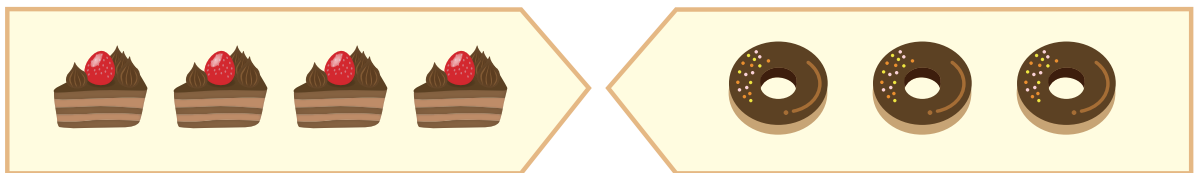
5

こたえ

5

こ

2



けーき

どーなつ

しき

4

+

3

=

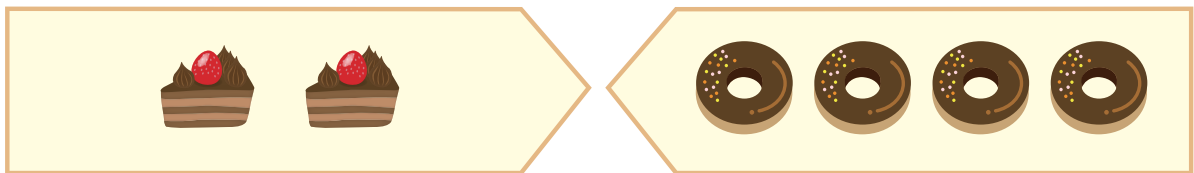
7

こたえ

7

こ

3



けーき

どーなつ

しき

2

+

4

=

6

こたえ

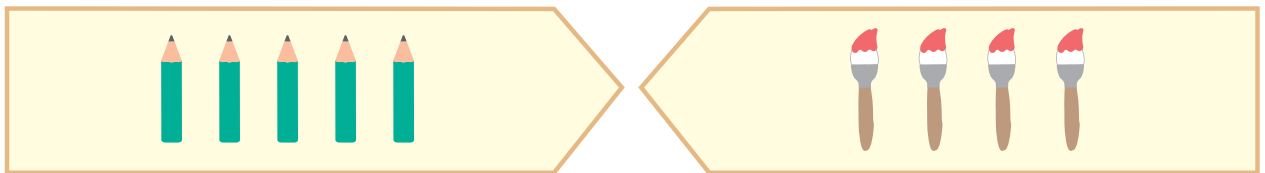
6

こ

えんぴつと ふでは あわせて いくつに なりますか。

にかずを 入れて しきと こたえを かきましょう。

1



えんぴつ

ふで

しき

5

+

4

=

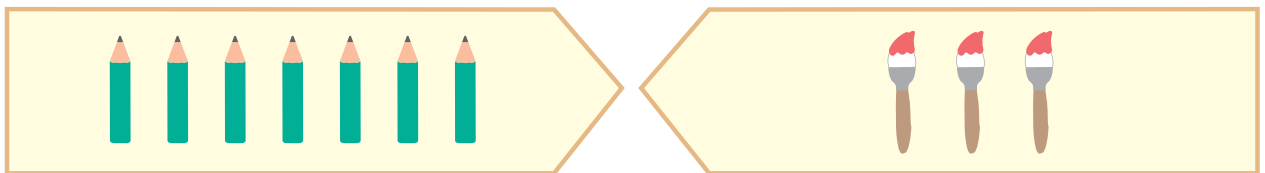
9

こたえ

9

ほん

2



えんぴつ

ふで

しき

7

+

3

=

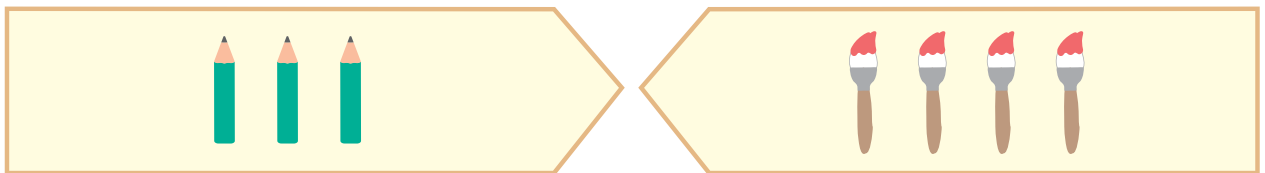
10

こたえ

10

ほん

3



えんぴつ

ふで

しき

3

+

4

=

7

こたえ

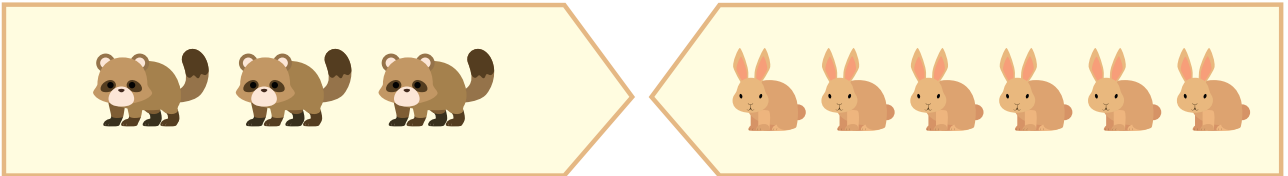
7

ほん

どうぶつは あわせて なんひきに なりますか。

に しきと こたえを かきましょう。

1



たぬきが 3ひき

うさぎが 6ひき

しき

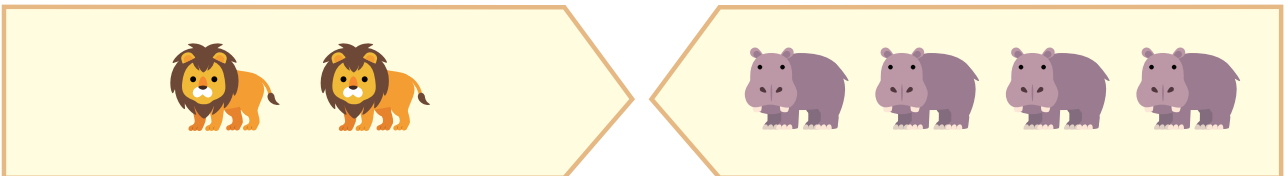
$$3 + 6 = 9$$

こたえ

9

ひき

2



らいおんが 2ひき

さいが 4ひき

しき

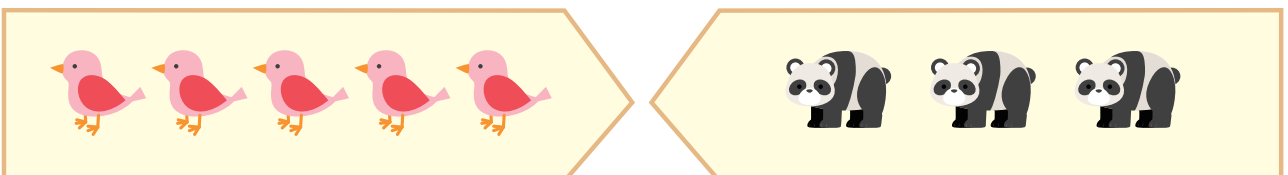
$$2 + 4 = 6$$

こたえ

6

ひき

3



とりが 5ひき

ぱんだが 3ひき

しき

$$5 + 3 = 8$$

こたえ


8

ひき

くだものは あわせて なんこに なりますか。

に しきと こたえを かきましょう。

1



しき


$$5 + 3 = 8$$

こたえ

8

こたえ

2



しき


$$3 + 4 = 7$$

こたえ

7

こたえ

3



しき


$$7 + 2 = 9$$

こたえ

9

こたえ

4



しき

$$6 + 4 = 10$$

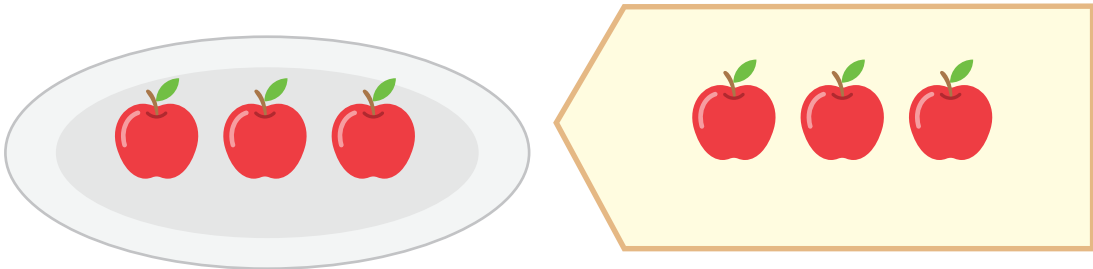
こたえ

10

こたえ

ふえると いくつになるでしょう。

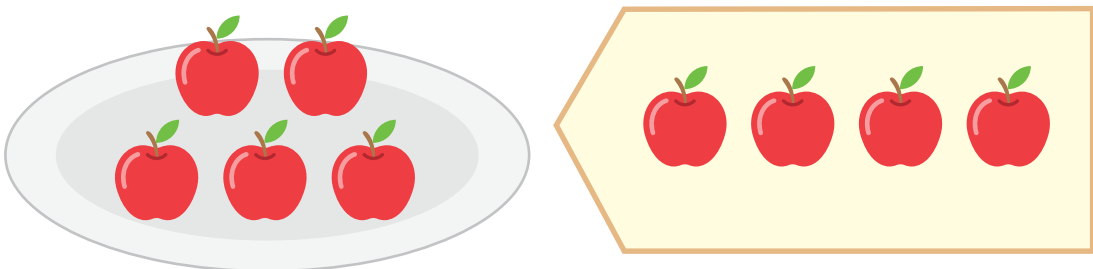
1 りんごが 3こ ありました、3こ ふえました。



ふえると
6

こ

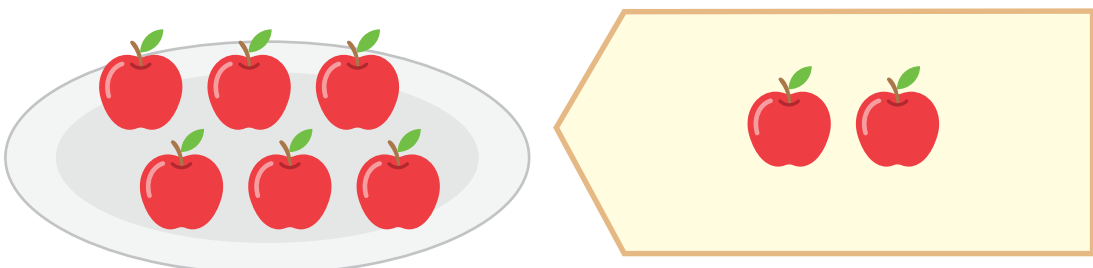
2 りんごが 5こ ありました、4こ ふえました。



ふえると
9

こ

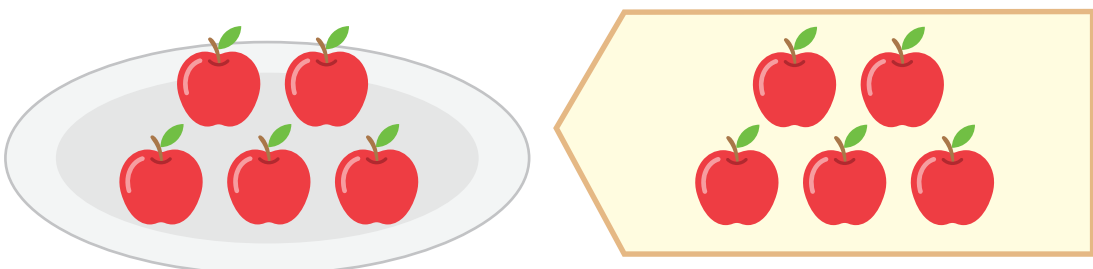
3 りんごが 6こ ありました、2こ ふえました。



ふえると
8

こ

4 りんごが 5こ ありました、5こ ふえました。



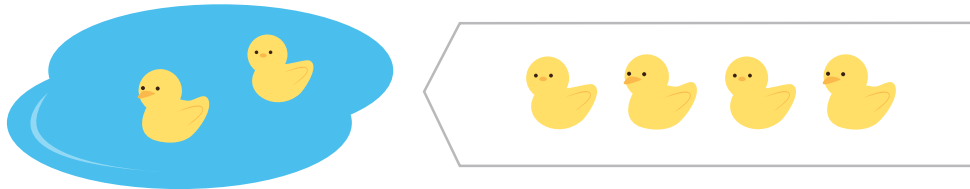
ふえると
10

こ

あひるは ふえると なんわに なりますか。

しきと こたえを かきましょう。

1



しき

2

+

4

=

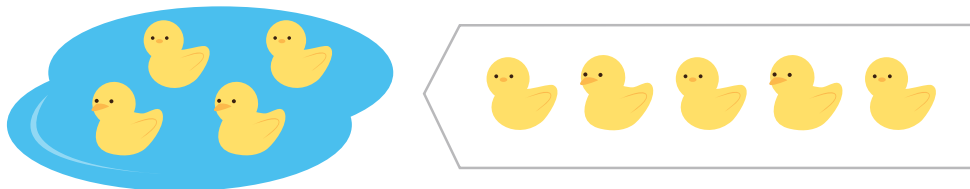
6

こたえ

6

わ

2



しき

4

+

5

=

9

こたえ

9

わ

3



しき

3

+

2

=

5

こたえ



5

わ

かにはふえると なんひきに なりますか。

しきと こたえを かきましょう。

1



しき



$$2 + 3 = 5$$

こたえ

5

ひき

2



しき



$$3 + 4 = 7$$

こたえ

7

ひき

3



しき


$$5 + 3 = 8$$

こたえ

8

ひき

4



しき

$$4 + 2 = 6$$


こたえ

6

ひき

しきと こたえを かきましょう。

- 1 りんごが 3こ、みかんが 4こ あります。
くだものは あわせて いくつ ありますか。



しき

$$3 + 4 = 7$$

こたえ

7

こ

- 2 いちごの あめが 2こ、めろんの あめが 6こ
あります。あめは あわせて いくつ ありますか。



しき

$$2 + 6 = 8$$

こたえ

8

こ

- 3 黒い いぬが 4ひき います。しろい いぬが 5ひき います。
いぬは ぜんぶで なんびき いますか。

しき

$$4 + 5 = 9$$

こたえ

9

ひき

- 4 おさらの うえに けえきが 3こ、はこの なかに けえきが
7こ はいっています。けえきは ぜんぶで なんこ ありますか。

しき

$$3 + 7 = 10$$

こたえ

10

こ

しきと こたえを かきましょう。

- 1 くるまが 2 だい あります。あとから 3 だい くと
くるまは ぜんぶで なんだいに なりますか。



しき

$$2 + 3 = 5$$

こたえ

5

だい

- 2 えんぴつを 5 ほん もっています。ついで 4 ほん
かうと えんぴつは ぜんぶで なんほんに なりますか。



しき

$$5 + 4 = 9$$

こたえ

9

ほん

- 3 おかしを 6 こ もっています。ともだちに 4 こ もらうと
おかしは なんこに なりますか。

しき

$$6 + 4 = 10$$

こたえ

10

こ

- 4 こうえんで こどもが 4 にん あそんでいます。さらに こどもが
4 にん きました。こうえんには なんにん こどもが いますか。

しき

$$4 + 4 = 8$$

こたえ

8

にん

しきと こたえを かきましょう。

- 1 あかい はなが 3つ さいています。きいろい はなが 5つ さいています。ぜんぶで いくつ さいていますか。



しき

$$3 + 5 = 8$$

こたえ

8

つ

- 2 めろんぱんが 4こあります。あんぱんが 2こ あります。ぱんは ぜんぶで なんこ ありますか。

しき

$$4 + 2 = 6$$

こたえ

6

こ

- 3 わなげをして 1かいめに 3つはいり、2かいめに 4つ はいりました。ぜんぶで いくつ はいりましたか。



しき

$$3 + 4 = 7$$

こたえ

7

つ

- 4 まらそんを しています。6 にん かえってきました。さらに 4 にん かえってきました。いま なんにん いますか。

しき

$$6 + 4 = 10$$

こたえ

10

にん