

- 1 あめが 6つあります。3つの袋に 3つの袋に 同じ数ずつ分けると
1人分は 何こになるでしょう。

式 $6 \div 3 = 2$

答え

2




- 2 20このいちごを 4人で分けます。1人分は
何こになるでしょう。

式 $20 \div 4 = 5$

答え

5



- 3 えんぴつが 42本あります。7人に 同じ数ずつ分けると
1人分は 何本になるでしょう。

式 $42 \div 7 = 6$

答え

6

- 4 56このりんごを 7人で分けます。1人分は 何こになるでしょう。

式 $56 \div 7 = 8$

答え

8


- 5 81cm のテープを 同じ長さで 9本に切って 1人1本ずつ
分けます。1人分は 何cmになりますか。

式 $81 \div 9 = 9$

答え

9

- 1 8このケーキを 4つのお皿に ^{さら}分けると
1皿分は 何こになるでしょう。

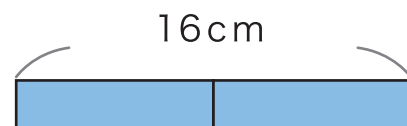


式 $8 \div 4 = 2$

答え

2

- 2 16cm のテープを 同じ長さに 半分に切ると
1つ分は 何cmになるでしょう。



式 $16 \div 2 = 8$

答え

8

- 3 81ページの本を 1日に同じページ数だけ 読んでいくと
9日かかりました。1日何ページ読んだでしょう。

式 $81 \div 9 = 9$

答え

9

- 4 りんごが 24こ あります。

- ① 同じ数ずつ 8人に分けると 1人分は 何こになるでしょう。

式 $24 \div 8 = 3$

答え

3

- ② 1人に 6こずつ分けると 何人に 分けられるでしょう。

式 $24 \div 6 = 4$

答え

4

- 1 10こ入の チョコレートがあります。1人に2こずつ分けると 何人に分けられるでしょう。

式 $10 \div 2 = 5$

答え

5




- 2 えんぴつが 15本あります。5本を1セットとして 分けると何セットできるでしょう。

式 $15 \div 5 = 3$

答え

3



- 3 子どもが 20人います。4人1組で グループを作るとグループは 何組できるでしょう。

式 $20 \div 4 = 5$

答え

5

- 4 56ページの 本があります。1日7ページずつ読むと何日で読み^お終わるでしょう。

式 $56 \div 7 = 8$

答え

8

- 5 40このクッキーを 1人8まいずつ分けると何人に分けられるでしょう。

式 $40 \div 8 = 5$

答え

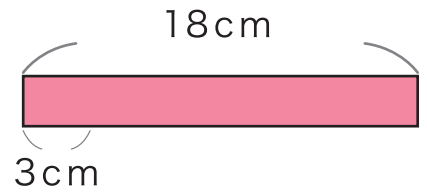
5

- 1 18cmのテープを 3cmずつ分けると 何本に分けられるでしょう。

式 $18 \div 3 = 6$

答え

6




- 2 35まい入の ^{はこ}クッキーの箱があります。1 ^{さら}皿に5まいずつ入れるには 何皿ひつようですか。

式 $35 \div 5 = 7$

答え

7



- 3 ^お折り紙が 63まいあります。1人7まいずつ 分けると何人に 分けられるでしょう。

式 $63 \div 7 = 9$

答え

9

- 4 子どもが 18人います。

- ① 2人1組で グループを作ると 何グループできますか。

式 $18 \div 2 = 9$

答え

9

- ② 6グループ作るには 1グループに 何人ひつようですか。

式 $18 \div 6 = 3$

答え

3