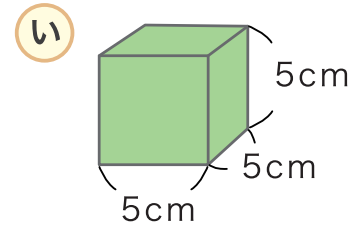
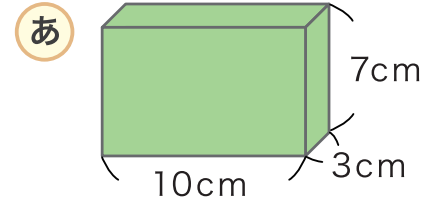
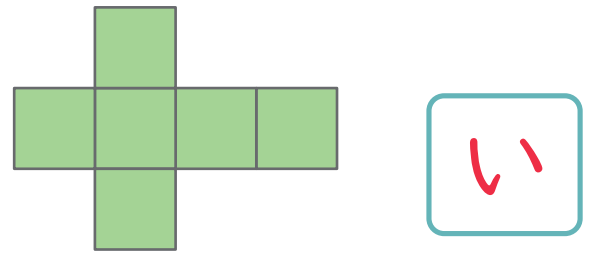


にあてはまる <sup>かず</sup> 数や <sup>ことば</sup> 言葉を <sup>か</sup> 書きましょう。

1 この形は <sup>めん</sup> 面が **6** つ  
<sup>へん</sup> 辺が **12** つ、<sup>てん</sup> ちょう点が **8** つ  
 からできています。



2 <sup>みぎ</sup> 右のような <sup>めん</sup> 面を <sup>くみたて</sup> くみたてて <sup>はこ</sup> はこをつくと **あ** と **い** のどちらの <sup>はこ</sup> はこができますか。



3 **あ** のはこの <sup>めん</sup> 面の形は <sup>なん</sup> なんていう <sup>し</sup> 四角形か <sup>かたえ</sup> こたえましょう。

長方形

4 **あ** の <sup>はこ</sup> はこには <sup>おな</sup> 同じ形の <sup>めん</sup> 面がいくつずつ <sup>ある</sup> あるでしょう。

2 つずつ

5 **い** のはこの <sup>めん</sup> 面の形は <sup>なん</sup> なんていう <sup>し</sup> 四角形か <sup>かたえ</sup> こたえましょう。

正方形

6 **い** の <sup>はこ</sup> はこには <sup>おな</sup> 同じ形の <sup>めん</sup> 面がいくつ <sup>ある</sup> あるでしょう。

6 つ

# はこの形

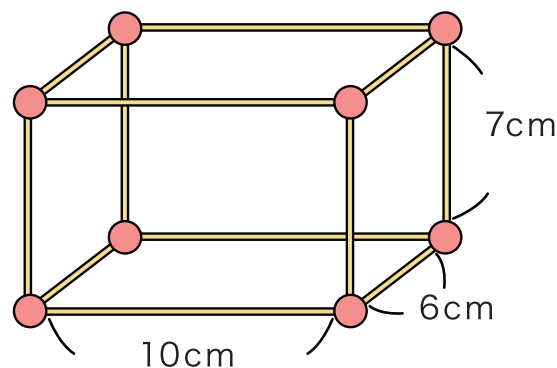
1 ひごと <sup>ど だま</sup>ねん土玉をつかってはこの形をつくります。

① <sup>なん</sup>ねん土玉は何こ  
いるでしょう。

8 こ

② ひごは <sup>ほん</sup>ぜんぶで何本  
いるでしょう。

12 本



③ <sup>なが</sup>どんな長さのひごが何本ずついるでしょう。

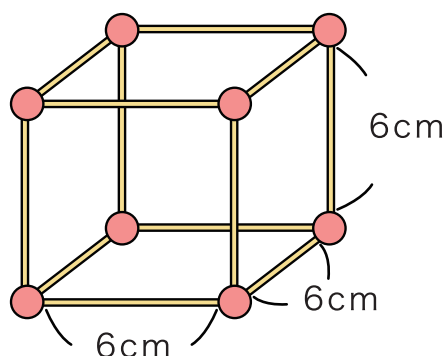
10cm… 4 本    7cm… 4 本    6cm… 4 本

2 ひごと <sup>せい ほう けい</sup>ねん土玉をつかって正方形のはこをつくります。

① <sup>なん</sup>ねん土玉は何こ  
いるでしょう。

8 こ

② <sup>なが</sup>どんな長さのひごが  
何本 いるでしょう。

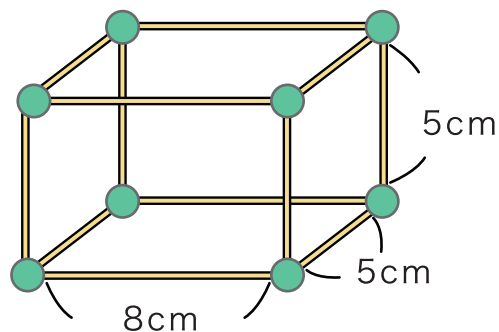


6 cm の ひごが 12 本 あります。

# はこの形

1 ひごと <sup>ど だま</sup>ねん土玉を つかってはこの形をつくります。

① <sup>なん</sup>ねん土玉は何こ  
いるでしょう。 8 こ

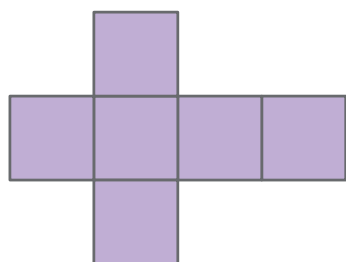


② <sup>なが</sup>どんな長さの <sup>ぼん</sup>ひごが何本  
ずつ いるでしょう。

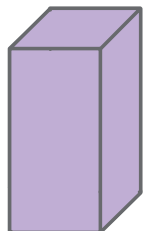
8cm… 4 本    5cm… 8 本

③ できたはこの形は <sup>めん</sup>面が 6 つ、<sup>てん</sup>ちょう点が 8 つ、  
<sup>へん</sup>辺が 12 つ あります。

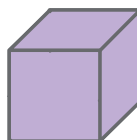
2 つぎの面をくみたててはこをつくとどんな形の  
はこができますか。 あ ~ う の中からこたえましょう。



あ



い



う

