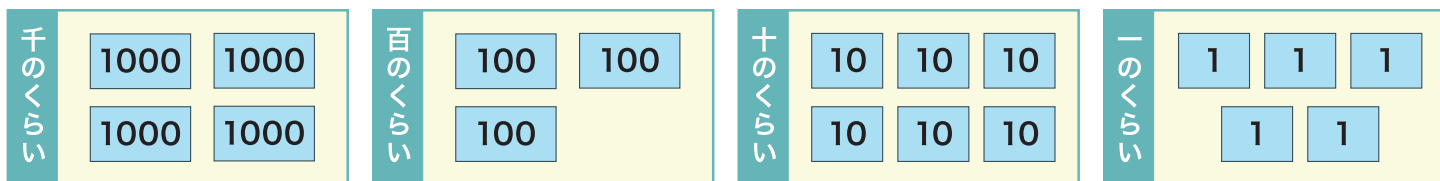


1000より大きい数

1 □ に あてはまる 数を 書きましょう。



① 4365 は 1000 を **4** こ、100 を **3** こ、
10 を **6** こ、1 を **5** こ あわせた数 です。

② 4365 は 漢字で **四千三百六十五** と 書きます。

2 つぎの 数を 数字で 書きましょう。

① 1000 1000 1000 100 100 10 1 **3211**

② 5000 1000 100 100 100 100 10 10 1 1 1 **6423**

③ 五千六百二十 **5620**

④ 三千二百十一 **3211**

⑤ 七千九百 **7900**

⑥ 千五十八 **1058**

1000より大きい数

1 □ に あてはまる 数を 書きましょう。

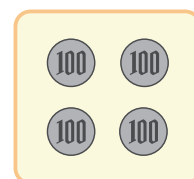
① 5200 は 100 を **52** こ あつめた 数です。

② 7520 は 1000 を **7** こ、100 を **5** こ、
10 を **2** こ あわせた 数です。

③ 100 を 50 こ あつめた 数は **5000** です。

④ 100 が **10** こと、100 が 4 こで あわせて

1400 に なります。



2 つぎの 数を 漢字で 書きましょう。

① 1057 **千五十七**

② 3560 **三千五百六十**

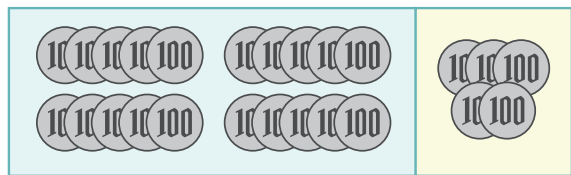
③ 7983 **七千九百八十三**

④ 4572 **四千五百七十二**

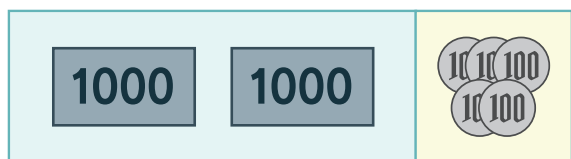
1000より大きい数

1 □ にあてはまる数を ^か書きましょう。

100 が 20 こ で **2000**、



100 が 5 こ で **500** なので



100 を 25 こ あつめた 数は **2500** です。

2 つぎの数はいくつになるでしょう。

① 100 を 10 こ
あつめた数

1000

② 100 を 50 こ
あつめた数

5000

③ 100 を 99 こ
あつめた数

9900

④ 100 を 42 こ
あつめた数

4200

⑤ 7000 は 100 を ^{なん}何こ
あつめた数ですか。

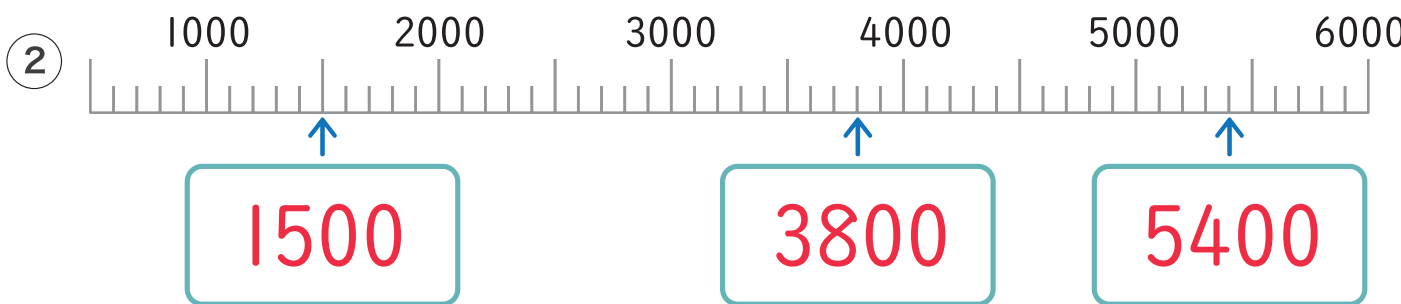
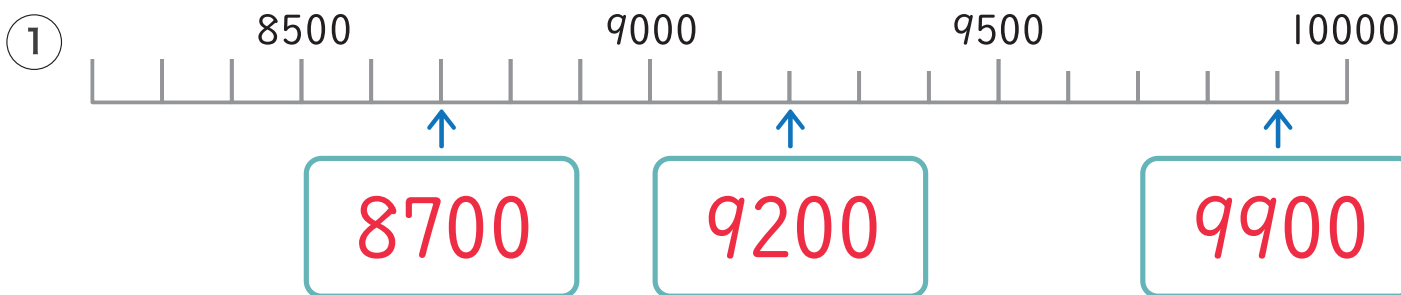
70

⑥ 9000 は 1000 を 何こ
あつめた数ですか。

9

1000より大きい数

1 下の数の直線の にあてはまる数を書きましょう。



2 にあてはまる数を書きましょう。

① 1000を10こあつめた数 ② 10000より1小さい数

③ 10000は100を こあつめた数です。

3 あといくつで10000になるでしょう。

① 9990 ② 9000 ③ 9900

1000より大きい数

1 つぎのカードを ^み見て □ に ^かあてはまる ^{かず}数を ^か書きましょう。

6200

5000

① 6200 より ^{おお}大きいのは **7800** です。

4900

7800

② 5000 より ^{ちい}小さいのは **4900** です。

③ 5000 は 4900 より **100** 大きい数です。

2 数をくらべて □ にあてはまる >、< を書きましょう。

① 9000 **>** 8000

② 7650 **<** 7660

③ 5099 **>** 5089

④ 8968 **>** 4968

3 数をくらべて □ にあてはまる >、<、= を書きましょう。

① 6500 **>** 6000 + 50

② 7850 **<** 7000 + 880

③ 4000 **=** 2000 + 2000

④ 1500 **=** 500 + 1000