

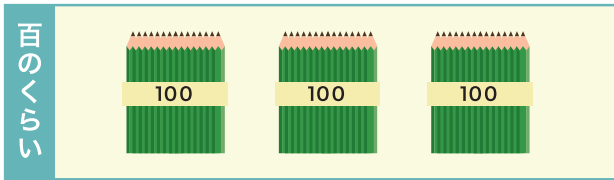


100より大きい数

1 □ に あてはまる 数を 書きましょう。

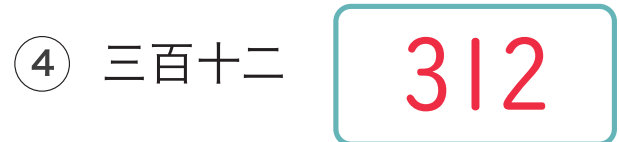




① 百を **3** こ あつめた 数を  
三百と いいます。

② 左の えんぴつは 三百と 五十八  
あるので 数字で 書くと

**358** に なります。

2 つぎの 数を 数字で 書きましょう。



100より大きい数

1 □ に あてはまる 数を 書きましょう。

① 723 は 100 を **7** こ、10 を **2** こ、1 を **3** こ

あわせた 数です。

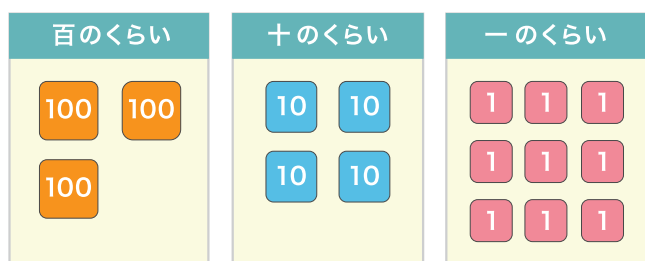
② 695 は 100 を **6** こ、10 を **9** こ、1 を **5** こ

あわせた 数です。

③ 右の表は 百のくらいが **3**、

十のくらいが **4**、

一のくらいが **9** で 数は **349** に なります。



2 つぎの 数を 漢字で 書きましょう。

① 736 **七百三十六**


② 400 **四百**

③ 211 **二百十一**

④ 195 **百九十五**

1 □ に あてはまる 数を <sup>か</sup>書きましょう。

10 が 20 こ で **200**、



10 が 3 こ で **30** なので



10 を 23 こ あつめた 数は **230** です。

2 つぎの 数は いくつに なるでしょう。

① 10 を 10 こ  
あつめた 数

**100**

② 10 を 50 こ  
あつめた 数

**500**

③ 10 を 92 こ  
あつめた 数

**920**

④ 10 を 38 こ  
あつめた 数

**380**

⑤ 400 は 10 を <sup>なん</sup>何こ  
あつめた 数 ですか。

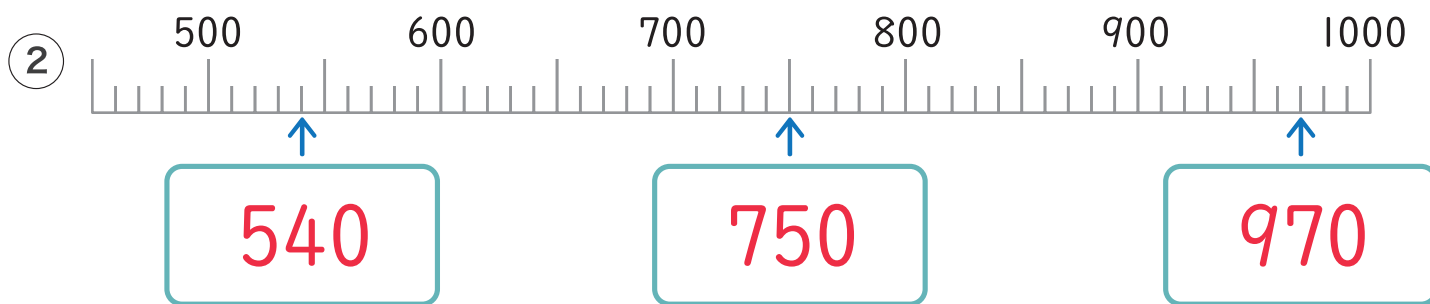
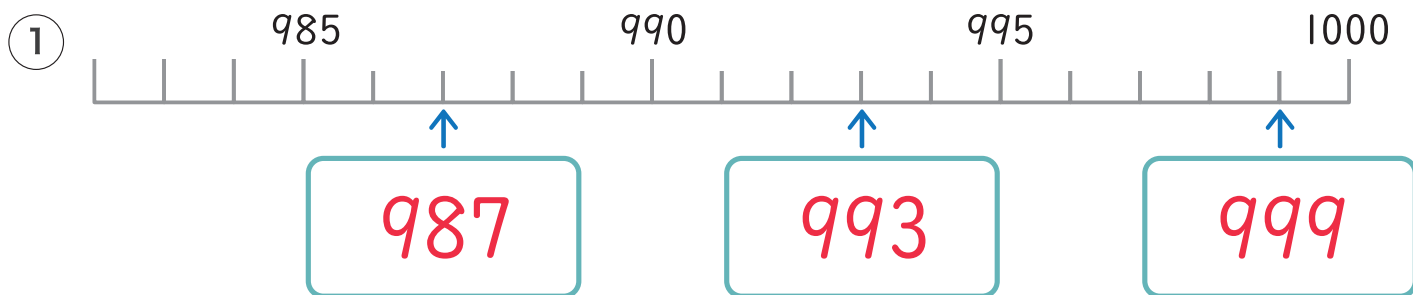
**40**

⑥ 630 は 10 を 何こ  
あつめた 数 ですか。

**63**

100より大きい数

1 下の数の直線の  にあてはまる数を書きましょう。



2  にあてはまる数を書きましょう。

① 100を10こあつめた数       ② 1000より10小さい数

③ 1000は10を  こあつめた数です。

3 あといくつで1000になるでしょう。

① 970       ② 999       ③ 600

1 つぎのカードを <sup>み</sup>見て □ に <sup>かず</sup>あてはまる <sup>か</sup>数を <sup>か</sup>書きましょう。

850

289

① 770 より <sup>おお</sup>大きいのは **850** です。

345

770

② 345 より <sup>ちい</sup>小さいのは **289** です。

2 数をくらべて □ にあてはまる >、< を書きましょう。

① 563

&gt;

384

② 870

&lt;

981

③ 150

&lt;

200

④ 715

&gt;

703

3 数をくらべて □ にあてはまる >、<、= を書きましょう。

① 240

&lt;

200 + 50

② 199

=

100 + 99

③ 489

&gt;

400 + 80

④ 654

&lt;

500 + 200

⑤ 700

=

400 + 300

⑥ 310

&gt;

300 + 8