

○ で かこみましよう。

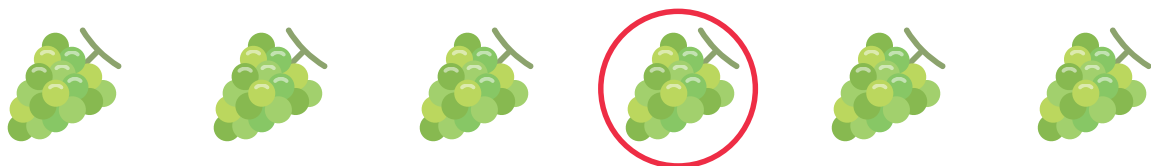
1 ひだりから 2つめ



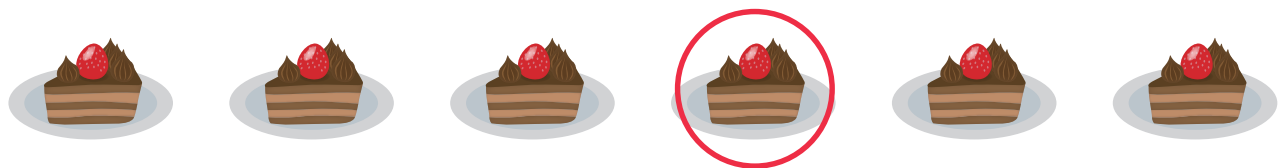
2 ひだりから 5つめ




3 みぎから 3つめ




4 ひだりから 4つめ



5 ひだりから 6つめ



6 みぎから 4つめ




○ で かこみましよう。


1 まえから 6 だ い め



2 まえから 2 だ い め



3 うしろから 1 だ い め



4 ひだりから 1 つ め



5 みぎから 6 つ め



6 みぎから 2 つ め




○ で かこみましょう。

1 ひだりから 8 こめ




2 みぎから 6 こめ



3 ひだりから 9 こめ



4 ひだりから 5 こめ



5 まえから 8 だいめ



6 うしろから 7 ひきめ



えをみて □ にあてはまるかずをかきましょう。

ひだり



みぎ

けんた

かなこ

ゆうた

1 けんたさんは ひだりから **2** ばんめに います。

2 かなこさんは みぎから **5** ばんめに います。

3 ゆうたさんは ひだりから **6** ばんめ、

みぎから **3** ばんめに います。

まえ



うしろ

4 うさぎは まえから **4** ばんめに います。

5 ぞうは まえから **2** ばんめ、うしろから **7** ばんめに います。


なんばんめ

1 えをみて □ にあてはまるかずをかきましょう。

① たけるさんは まえから

5 ばんめにいます。

まえ



ゆか みほ たける

うしろ

② ゆかさんは うしろから **4** ばんめにいます。

③ たけるさんの まえには **4** にん います。

2 えをみて □ にあてはまるかずをかきましょう。

① あいすは みぎから

3 ばんめにあります。


うえ



② ぷりんは したから

2 ばんめにあります。

ひだり



みぎ

③ けーきは うえから **1** ばんめ、


した

ひだりから **2** ばんめにあります。

なんばんめ

えをみて □ にあてはまるかずをかきましょう。

うえ




した

- さくらんぼは うえから **2** ばんめに あります。
- れもんは ひだりから **4** ばんめに あります。
- ぶどうは したから **3** ばんめに あります。
- ぱいなっぷるは みぎから **3** ばんめに あります。
- すいかは うえから **3** ばんめ、みぎから **2** ばんめ、
したから **1** ばんめに あります。

1 えをみて □にあてはまるかずをかきましょう。

① たけしさんはまえから
3ばんめにいます。



② かなさんはまえから 2ばんめ、うしろから 4ばんめにいます。

③ ゆうたさんのまえには 4にんいます。

④ かなさんのうしろには 3にんいます。

2 えをみてあてはまるくだものをかきましょう。



① ひだりから3ばんめのくだものは ぶどうです。

② みぎから2ばんめのくだものは ももで、

バナナ

はひだりから4ばんめにあります。

なんばんめ

つぎの えは 1ねん 2くみの きょうしつ の ようすです。

に あてはまる かずや ことばを かきましょう。

まえ

- 1 まえから 2ばんめ、みぎから 2ばんめの せきはだれの せきですか。

かなこ

ひだり

さき	ゆか	たけし	しょう	つばさ
さとし	けんた	まさと	かなこ	みか
あや	しげる	ももか	ゆうき	りょう
しおん	ゆうか	さくら	かずや	ゆい

みぎ

うしろ

- 2 ゆうきさんの せきはひだりから なんばんめ ですか。

4 ばんめ

- 3 しげるさんの せきは うしろから 2 ばんめ、

みぎから 4 ばんめ にあります。

- 4 まえから 3 ばんめ、ひだりから 5 ばんめの せきは だれの せきですか。

りょう

- 5 うしろから 3 ばんめ、みぎから 3 ばんめは

まさと

さんの せきで、1つ まえに

たけし

さんの せきが あります。