


ものとおひとのかず

がつ 日にち
なまえ

- 1 5にんの こどもが 1ぽんずつ えんぴつを もっています。
えんぴつは まだ 4ほん あまっています。えんぴつは
ぜんぶで なんほん あるでしょう。



しき

$$5 + 4 = 9$$

こたえ

9

ほん

- 2 いすが 9こ あります。こどもが ひとりずつ すわると 3にん
すわれませんでした。こどもは ぜんぶで なんにん いますか。



しき

$$9 + 3 = 12$$

こたえ

12

にん

- 3 8にんの こどもに おかしを くばりました。おかしは あと
7こ あまっています。おかしは ぜんぶで なんこ ありますか。

しき


$$8 + 7 = 15$$

こたえ

15

こ

- 1 さやかさんは まえから 5ばんめに います。さやかさんの うしろには 9 にん います。みんなで なんにん いるでしょう。



しき

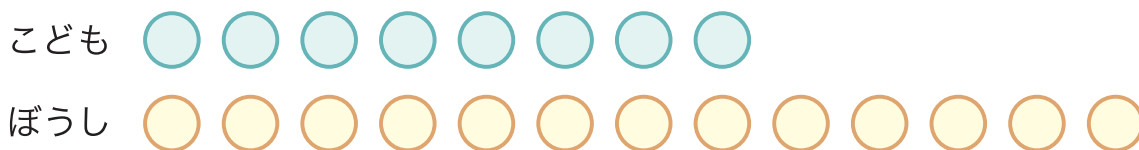
$$5 + 9 = 14$$

こたえ

14

にん

- 2 8 にんの こどもが ぼうしを かぶって います。ぼうしは 5こ あまっています。ぼうしは ぜんぶで なんこ あるでしょう。



しき

$$8 + 5 = 13$$

こたえ

13

こ

- 3 こどもが いすに 5 にん すわって います。いすが たりずに すわれない こどもが 6 にん いました。こどもは ぜんぶで なんにん いるでしょう。

しき


$$5 + 6 = 11$$

こたえ

11

にん

- 1 めろんが 6 こ あります。みかんは めろんより 7 こ おおいです。みかんは なんこ あるでしょう。



しき

$$6 + 7 = 13$$

こたえ

13

こ

- 2 あかい くつが 8 こ あります。しろい くつは あかい くつ より 6 こ おおいです。しろい くつは なんこ ありますか。

しき

$$8 + 6 = 14$$

こたえ

14

こ

- 3 じてんしゃが 9 だい あります。こどもが ひとりずつ のると 7 だい ありました。じてんしゃは なんだい ありますか。

しき

$$9 + 7 = 16$$

こたえ

16

だい

- 4 たけしさんは れつの まえから 3 ばんめに ならんでいます。うしろに 8 にん います。ぜんぶで なんにん ならんでいますか。

しき

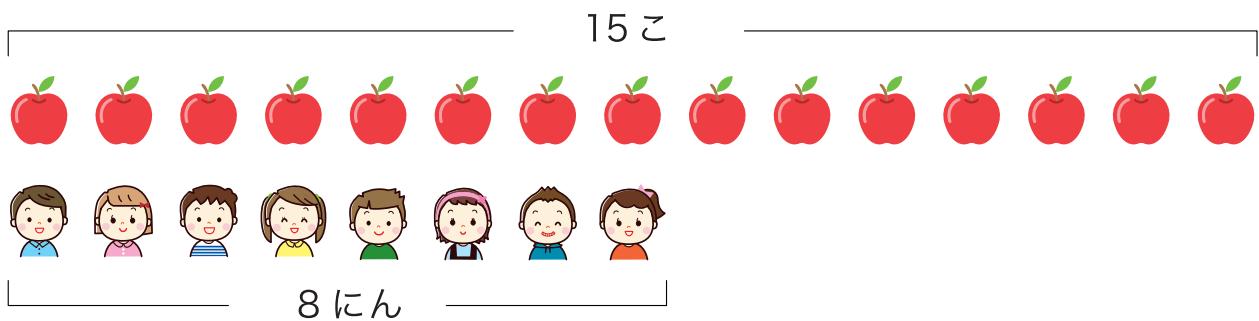
$$3 + 8 = 11$$

こたえ

11

にん

- 1 りんごが 15 こ あります。8 にんの こどもに 1 こずつ わたすと のこりは なんこに なるでしょう。



しき

$$15 - 8 = 7$$

こたえ

7

こ

- 2 12 ほんの えんぴつを 1 ぽんずつ くばります。8 にんの こどもに くばると えんぴつは なんほん あまるでしょう。



しき

$$12 - 8 = 4$$

こたえ

4

ほん

- 3 ケーキを 13 こ もらいました。ドーナツは ケーキより 5 こ すくなく もらいました。ドーナツは なんこ もらいましたか。

しき

$$13 - 5 = 8$$

こたえ

8

こ

- 1 けしごむが 8こ あります。12 にんの こどもに 1こ ずつ くばると もらえない こどもは なんにん いますか。

こども 

けしごむ 

しき

$$12 - 8 = 4$$

こたえ

4

にん

- 2 たまいれを しました。あかぐみが 14こ、しろぐみが 9こ でした。あかぐみは しろぐみより なんこ おおい ですか。

あかぐみ 

しろぐみ 

しき

$$14 - 9 = 5$$

こたえ

5

こ

- 3 ジュースを 15ほん くばりました。おちゃは ジュースより 7ほん すくなく くばりました。おちゃは なんほん くばりましたか。

しき

$$15 - 7 = 8$$

こたえ

8

ほん

ものひとのかず

がつ 日にち

なまえ

- 1 こどもが 10 にん ならんで あるいています。けんたさんは
まえから 3 ばんめに います。うしろに なんにん いますか。



しき

$$10 - 3 = 7$$

こたえ

7

にん

- 2 あかい はなが 12 ほん さきました。あおい はなは あかい
はなより 6 ほん すくなく さきました。あおい はなは
なんほん さきましたか。

しき

$$12 - 6 = 6$$

こたえ

6

ほん

- 3 おりがみが 14 まい あります。9 にんの こどもに 1 まい
ずつ くばると おりがみは なんまい ありますか。

しき

$$14 - 9 = 5$$

こたえ

5

まい

- 4 7 ほんの ペンを 16 にんの こどもに くばります。ペンを
もらえない こどもは なんにん いますか。

しき

$$16 - 7 = 9$$

こたえ

9

にん

ものとひとのかず

- 1 こどもが 1 れつに ならんでいます。さやかさんは まえから 4 ばんめで うしろには 8 にん ならんでいます。 みんなで なんにん いるでしょう。

しき

$$4 + 8 = 12$$

こたえ

12

にん

- 2 りんごが 15 こ あります。7 にんの こどもに わたすと りんごは なんこ のこるでしょう。

しき

$$15 - 7 = 8$$

こたえ

8

こ

- 3 7 にんが ひとりずつ ぼーるを もっています。ぼーるは あと 5 こ あまっています。ぼーるは ぜんぶで なんこ あるでしょう。

しき

$$7 + 5 = 12$$

こたえ

12

こ

- 4 こどもが 12 にん ならんでいます。こうじさんは まえから 6 ばんめ にいます。こうじさんの うしろには なんにん ならんで いるでしょう。

しき

$$12 - 6 = 6$$

こたえ

6

にん