

1 えをみて ひきざんを しましょう。

① えんぴつが 13ほん ありました

しき

$$13 - 2 = 11$$

こたえ

11ほん

② たまごが 16こ ありました

しき

$$16 - 3 = 13$$

こたえ

13こ

2 □ に あてはまる かずを かきましょう。

① 15から 3を ひいた かずは 12

② 15から 3を ひいた かずは 13

③ 14から 4を ひいた かずは 10



④ 19から 7を ひいた かずは 12

⑤ 11は 19から 8 を ひいた かず です

⑥ 12は 18から 6 を ひいた かず です

のこりは いくつに なるでしょう。ひきざんをして こたえましょう。

1 りんごが 14こ ありました。2こ たべました。



2こ たべました

しき

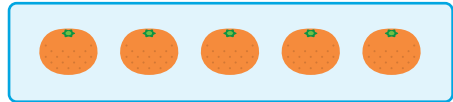

$$14 - 2 = 12$$

こたえ

12

こ

2 みかんが 15こ ありました。5こ たべました。



5こ たべました

しき

$$15 - 5 = 10$$

こたえ

10

こ

3 ケーキが 17こ ありました。4こ たべました。



4こ たべました

しき

$$17 - 4 = 13$$

こたえ

13

こ

1 ひきざんを しましょう。

$$\textcircled{1} \quad 13 - 3 = 10$$

$$\textcircled{2} \quad 19 - 9 = 10$$

$$\textcircled{3} \quad 18 - 7 = 11$$

$$\textcircled{4} \quad 14 - 2 = 12$$


$$\textcircled{5} \quad 17 - 4 = 13$$

$$\textcircled{6} \quad 15 - 2 = 13$$

$$\textcircled{7} \quad 19 - 5 = 14$$

$$\textcircled{8} \quad 16 - 3 = 13$$

2 いちごが 18こ あります。3こ たべると
のこりは なんこに なりますか。



しき


$$18 - 3 = 15$$

こたえ

15

こ

3 あひるが 17わ およいでいます。
5わ へると なんわに なりますか。



しき

$$17 - 5 = 12$$

こたえ

12

わ

- 1 くるまが 16だい とまっています。4だい
へると のこりは なんだいに なりますか。



しき


$$16 - 4 = 12$$

こたえ

12

だい

- 2 りんごが 18こ、みかんが 3こ あります。
かずの ちがいは なんこに なりますか。



しき

$$18 - 3 = 15$$

こたえ

15

こ

- 3 に あてはまる かずを かきましょう。

- ① 15から 4を
ひいた かずは

11

- ② 18から 2を
ひいた かずは

16

③ $14 - 4 = 10$

④ $16 - 3 = 13$

⑤ $17 - 2 = 15$

⑥ $18 - 6 = 14$

⑦ $19 - 3 =$

16

⑧ $17 - 4 =$

13

1 ひきざんを しましょう。

$$\textcircled{1} 15 - 3 = 12$$

$$\textcircled{2} 14 - 4 = 10$$

$$\textcircled{3} 16 - 2 = 14$$

$$\textcircled{4} 18 - 3 = 15$$

$$\textcircled{5} 19 - 7 = 12$$

$$\textcircled{6} 20 - 1 = 19$$

2 に あてはまる かずを かきましょう。

$$\textcircled{1} 13 - 3 = 10$$

$$\textcircled{2} 18 - 4 = 14$$

$$\textcircled{3} 18 - 6 = 12$$

$$\textcircled{4} 19 - 3 = 16$$

$$\textcircled{5} 17 - 4 = 13$$

$$\textcircled{6} 16 - 5 = 11$$

3 はちが 19ひき いました。5ひき とんで
いくと のこりは なんひきに なりますか。



しき

$$19 - 5 = 14$$

こたえ

14 ひき

ひきざんを しましょう。

$1 \quad 11 - 1 = 10$

$2 \quad 12 - 1 = 11$

$3 \quad 12 - 2 = 10$

$4 \quad 17 - 7 = 10$

$5 \quad 18 - 5 = 13$

$6 \quad 16 - 4 = 12$

$7 \quad 19 - 2 = 17$

$8 \quad 18 - 3 = 15$

$9 \quad 17 - 3 = 14$

$10 \quad 16 - 5 = 11$

$11 \quad 18 - 8 = 10$

$12 \quad 19 - 4 = 15$

$13 \quad 17 - 2 = 15$

$14 \quad 15 - 4 = 11$

ひきざんを しましょう。

$1 \quad 12 - 2 = 10$

$2 \quad 13 - 1 = 12$

$3 \quad 13 - 2 = 11$

$4 \quad 17 - 6 = 11$

$5 \quad 16 - 3 = 13$

$6 \quad 14 - 4 = 10$

$7 \quad 18 - 7 = 11$

$8 \quad 17 - 1 = 16$

$9 \quad 19 - 9 = 10$

$10 \quad 19 - 6 = 13$

$11 \quad 16 - 1 = 15$

$12 \quad 18 - 4 = 14$

$13 \quad 15 - 5 = 10$

$14 \quad 19 - 7 = 12$

ひきざんを しましょう。

$1 \quad 14 - 2 = 12$

$2 \quad 15 - 3 = 12$

$3 \quad 13 - 3 = 10$

$4 \quad 15 - 1 = 14$

$5 \quad 15 - 2 = 13$

$6 \quad 17 - 4 = 13$

$7 \quad 18 - 6 = 12$

$8 \quad 19 - 3 = 16$

$9 \quad 17 - 5 = 12$

$10 \quad 16 - 6 = 10$

$11 \quad 19 - 8 = 11$

$12 \quad 18 - 2 = 16$

$13 \quad 16 - 2 = 14$

$14 \quad 19 - 5 = 14$

ひきざんを しましょう。

$1 \quad 15 - 5 = 10$

$2 \quad 16 - 3 = 13$

$3 \quad 13 - 2 = 11$

$4 \quad 18 - 6 = 12$

$5 \quad 19 - 7 = 12$

$6 \quad 17 - 2 = 15$

$7 \quad 20 - 6 = 14$

$8 \quad 14 - 2 = 12$

$9 \quad 19 - 3 = 16$

$10 \quad 20 - 8 = 12$

$11 \quad 18 - 5 = 13$

$12 \quad 16 - 6 = 10$

$13 \quad 20 - 5 = 15$

$14 \quad 17 - 4 = 13$

ひきざんを しましょう。

$1 \quad 19 - 2 = 17$

$2 \quad 13 - 3 = 10$

$3 \quad 18 - 7 = 11$

$4 \quad 16 - 4 = 12$

$5 \quad 15 - 3 = 12$

$6 \quad 19 - 4 = 15$

$7 \quad 20 - 7 = 13$

$8 \quad 17 - 4 = 13$

$9 \quad 19 - 6 = 13$

$10 \quad 20 - 2 = 18$

$11 \quad 16 - 2 = 14$

$12 \quad 18 - 4 = 14$

$13 \quad 20 - 1 = 19$

$14 \quad 20 - 9 = 11$