



どちらが ながいでしょう。①、②で こたえましょう。

1



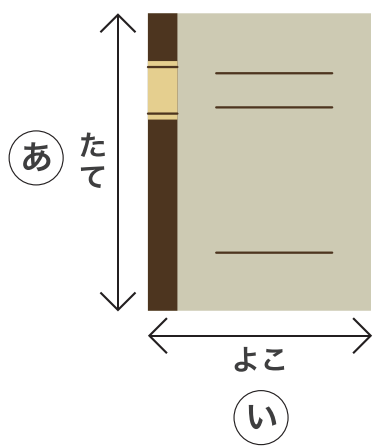
あ

2



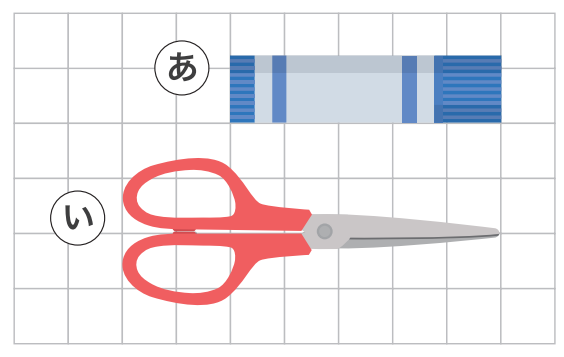
い

3




あ

4



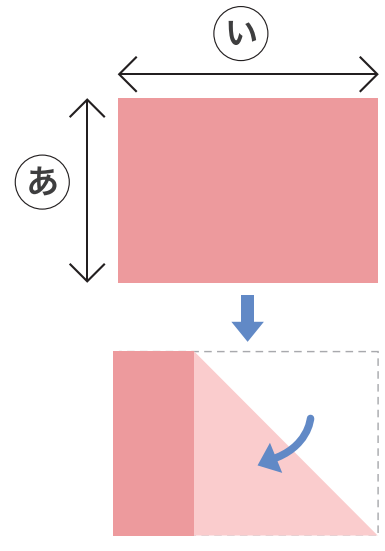
い

5



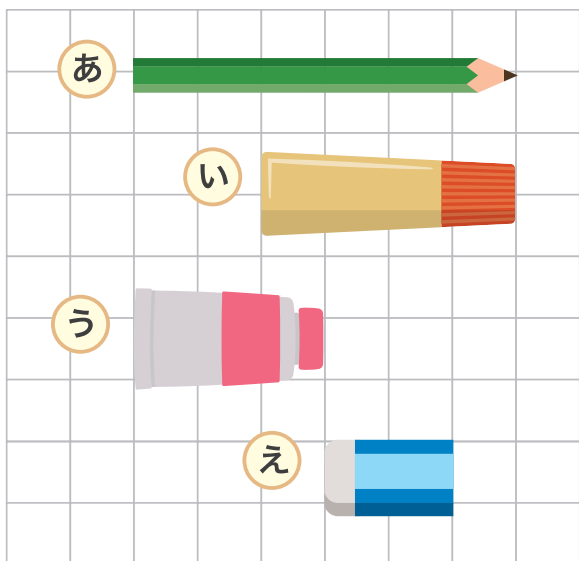
あ

6



い

1 えをみて あ、い、う、え で こたえましょう。



① いちばん ながいのは
どれでしょう。

あ

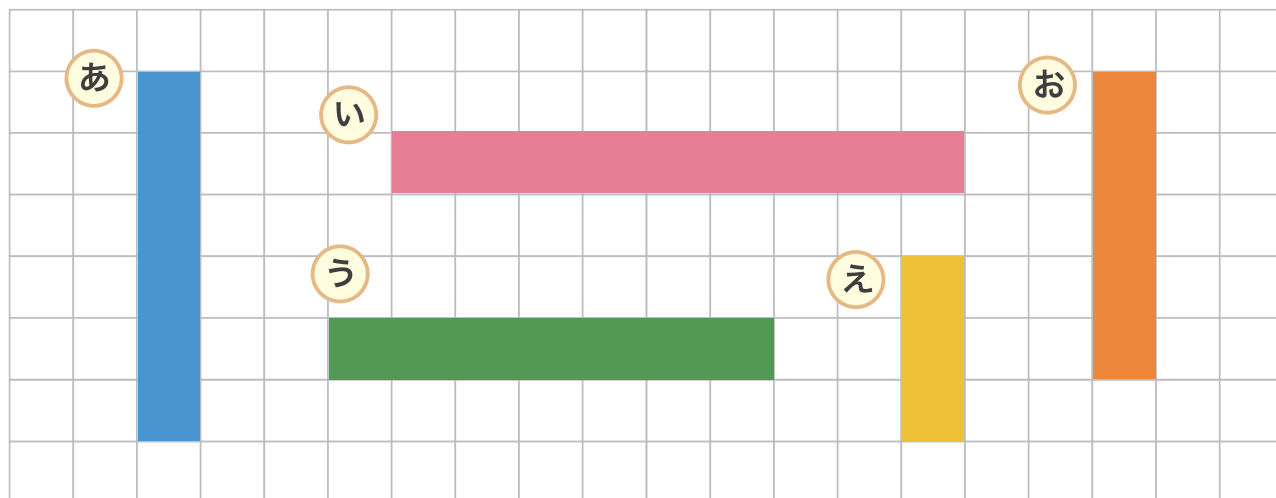
② いちばん みじかいのは
どれでしょう。

え

③ 2ばんめに ながいのは
どれでしょう。

い

2 ながい じゅんに あ、い、う、え、お を かきましょう。



1 えをみて あ、い、う、え、お で こたえましょう。

① いちばん ながい
ものは どれでしょう。

お

② いちばん みじかい
ものは どれでしょう。

え

③ ながさが おなじものは
どれと どれでしょう。

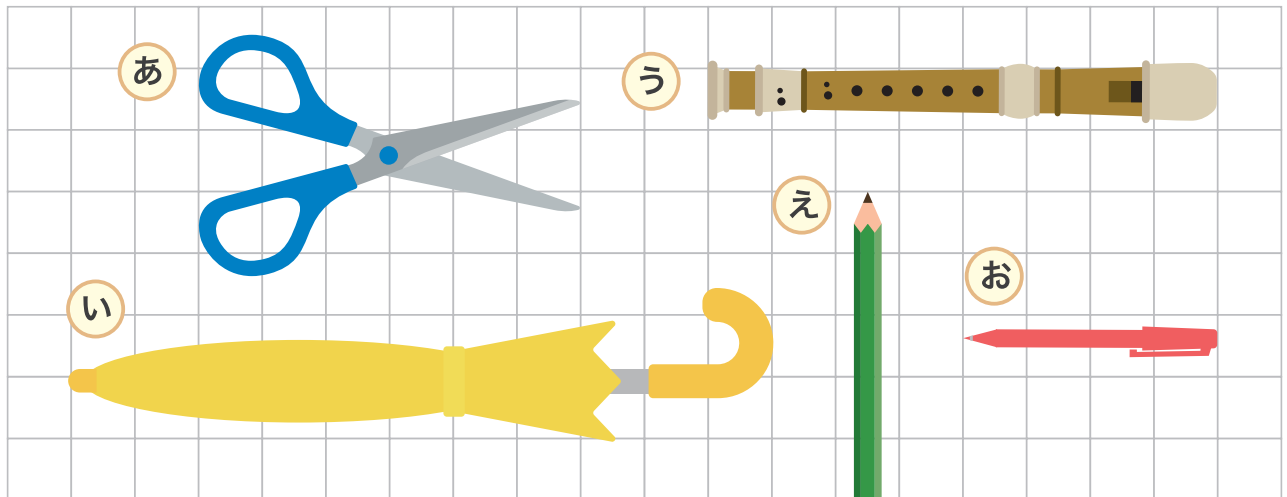
あ

と

う

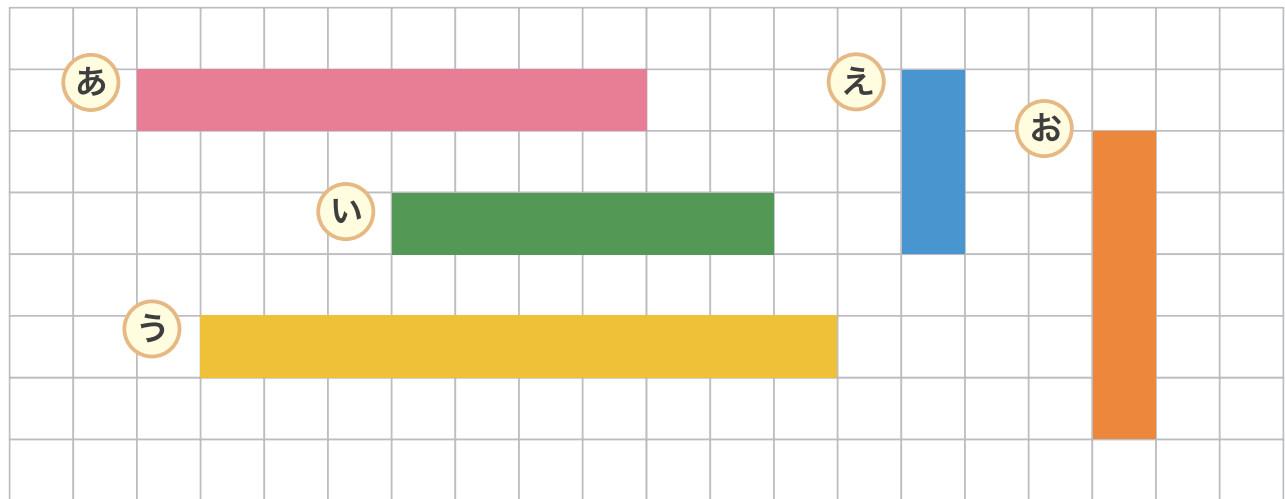


2 ながい じゅんに あ、い、う、え、お を かきましょう。



い → う → あ → え → お

ながさを しらべて こたえましょう。



1 あ、う、お は ますの いくつぶんの ながさになるでしょう。

あ 8 つぶん う 10 つぶん お 5 つぶん

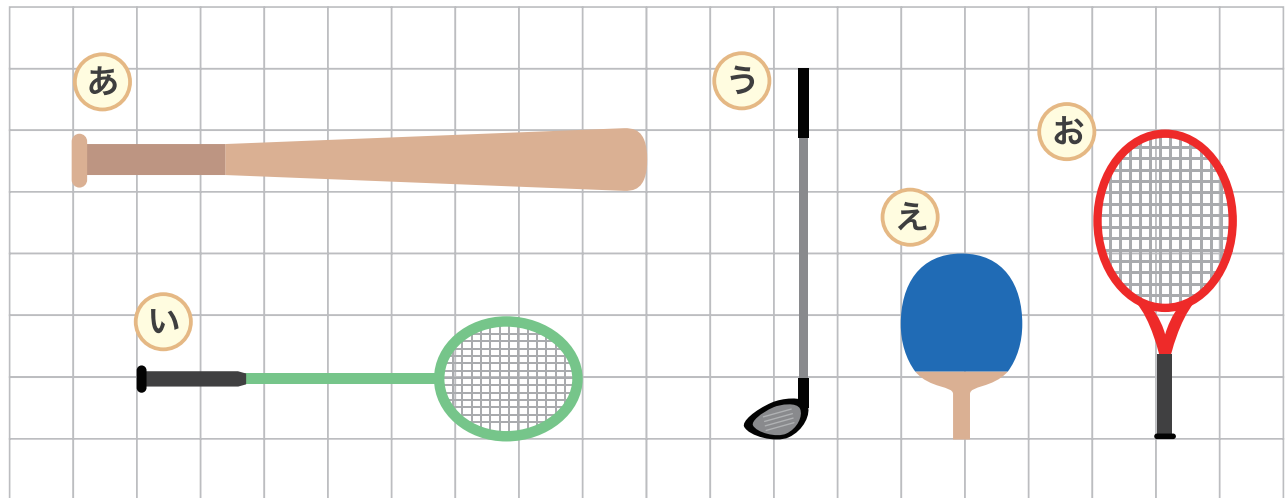
2 どちらが ますの いくつぶん ながいでしょう。

① あ と え では あ が 5 つぶん ながい

② い と う では う が 4 つぶん ながい

③ え と お では お が 2 つぶん ながい

ながさを しらべて こたえましょう。



1 **い** は ますの いくつぶんの ながさでしょう。 **7** つぶん

2 **あ** と **お** では どちらが ますの いくつぶん ながい でしょう。 **あ** が **4** つぶん ながい

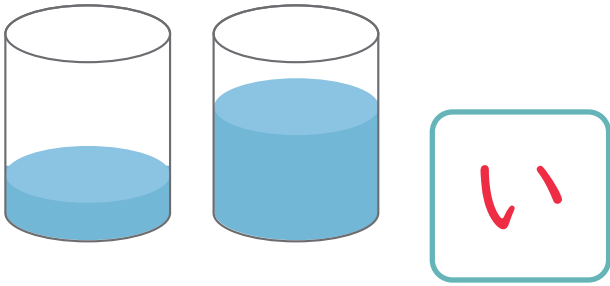
3 **い** と **う** では どちらが ますの いくつぶん みじかい でしょう。 **う** が **1** つぶん みじかい

4 **う** と **え** を あわせると ますの いくつぶんの ながさになる でしょう。 **9** つぶん

1 みずが おおく はいって いるのは どちらでしょう。


①

あ い



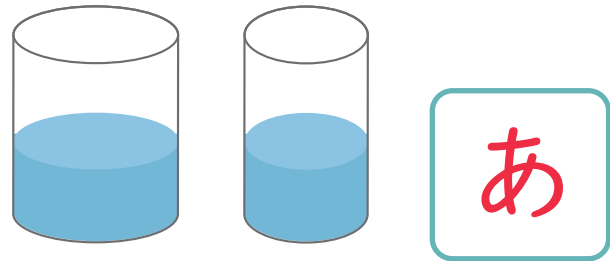
②

あ い




③

あ い



④


あ い



2 みずが いちばん おおく はいって いるのは どれでしょう。


①

あ い う








②

あ い う



いれものにはいったみずをこっぷにうつしてくらべました。



1 あ、い、うにはこっぷなんばいぶんのみずがはいるでしょう。

あ 8 はい

い 5 はい

う 6 はい

2 あはうよりなんばいおおくのみずがはいるでしょう。

2 はい

3 みずがいちばんおおくはいるいれものはどれでしょう。

あ


4 みずがおおくはいるじゅんにならべましょう。



1 みずが おおく はいっている じゅんに ならべましょう。

①

あ い う



い → う → あ

②

あ い う



あ → う → い

2 いれものにはいった みずを こっぷに うつして くらべました。

あ



い



う



① あ には こっぷ なんばいぶんの
みずが はいりますか。

8 はい

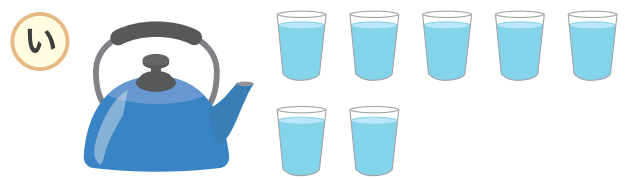
② みずが いちばん おおく
はいるのは あ ~ う
のうち どれですか。

う

③ う は い より なんばい
おおく みずが
はいりますか。

3 はい

- 1 いれものにはいったみずをこっぷにうつしてくらべました。
□にあてはまるかずやことばをかきましょう。

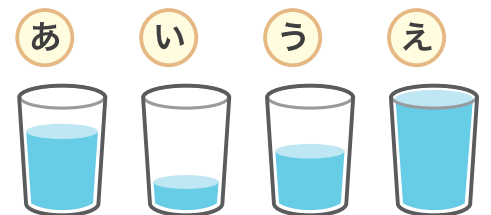


- ① あはこっぷ **10** はいぶん、いはこっぷ **7** はいぶんのみずがはいります。

- ② みずがおおくはいるいれものは **あ** でもうひとつのいれものより **3** はいおおくみずがはいります。

- 2 おなじかたちのこっぷにみずをいれてくらべます。
あてはまるものをあ～えでこたえましょう。

- ① いちばんみずがおおくはいつているのはどれですか。



- ② みずが3ばんめに おおくはいつているのはどれですか。



- ③ みずがいちばんすくないのはどれですか。



小
一

さんすうもんだい

おおきさくらべ / ひろさくらべ


がつ 日にち
なまえ

どちらが ひろいでしょう。 (あ)、(い) で こたえましょう。

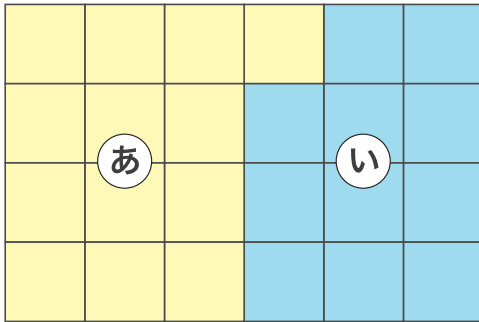
1

(あ)



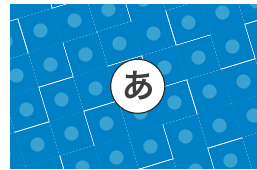
(い)



2




3




4

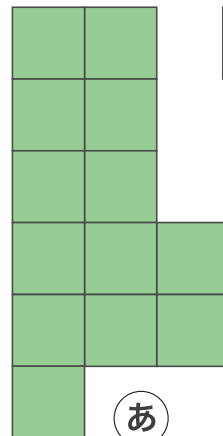
(あ)



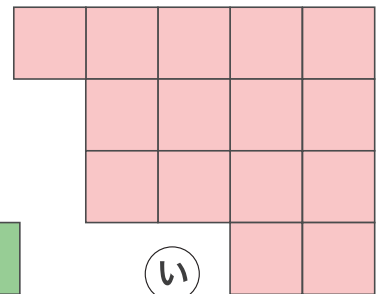
(い)



5



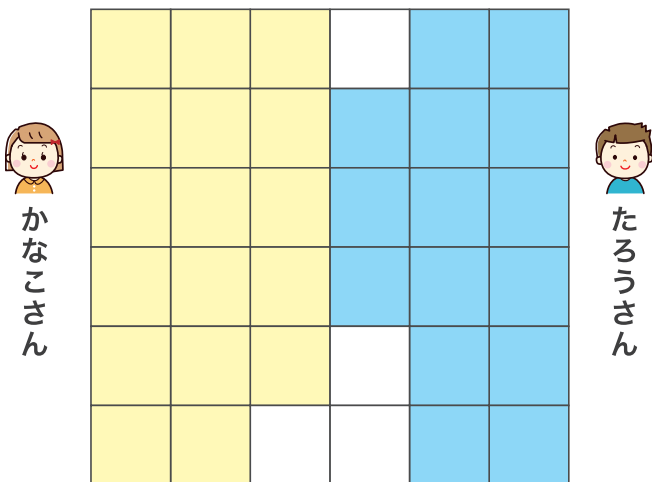
(あ)





(い)





ばしよとりあそび をしました。じゃんけんで かったら ますを
ひとつずつ ぬって おおく ぬった ほうが 勝ちです。







1 かなこさんと たろうさんは
ますを なんこ とっていますか。

  かなこさん 17 こ

  たろうさん 15 こ

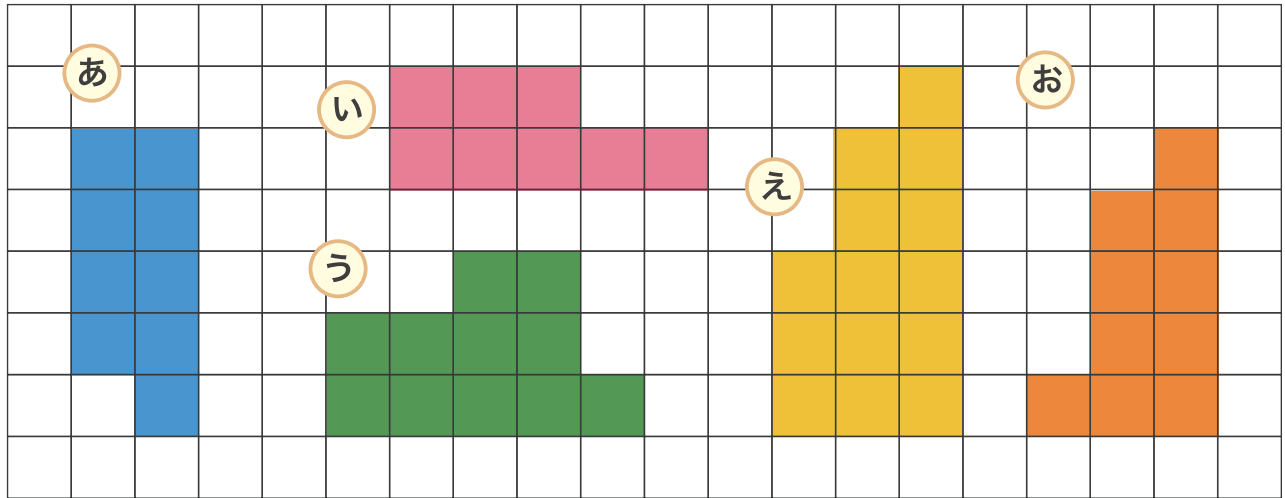
2 このあと かなこさんが じゃんけんで 2かい 勝ちました。
そのあと たろうさんが 1かい 勝ちました。
かなこさんと たろうさんの ますは なんこに なりましたか。

  かなこさん 19 こ   たろうさん 16 こ

3 どちらが 勝ちましたか。また かったほうの ますは
まけたほうの ますより なんこ おおかった でしょう。

かったのは かなこさん で 3 こ おおかった

1 ひろい じゆんに あ、い、う、え、お を かきましょう。



2 あ は ■ が なんこぶん ありますか。

9 こ

3 え は ■ が なんこぶん ありますか。

14 こ

4 い は お の なんこぶん すくない ですか。

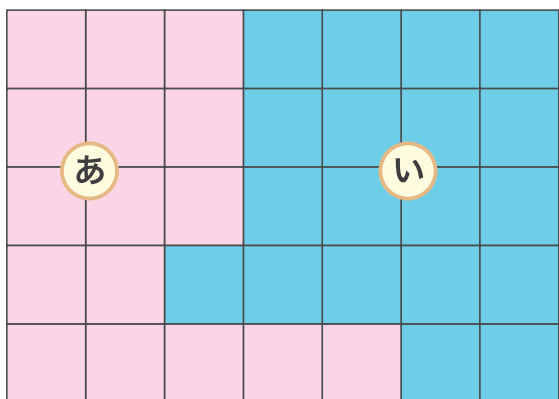
2 こ

5 え は う より なんこぶん おおい ですか。

3 こ

1 **あ**と**い**のかみをならべてひろさをくらべました。

にあてはまるかずやことばをかきましょう。



① **あ**はなんまいありますか。 まい

② **い**はなんまいありますか。 まい

③ **あ**と**い**はどちらがひろいですか。

④ ひろいほうのかみはせまいほうのかみよりなんまいおおいですか。 まい

2 **あ**と**い**はどちらがひろいでしょう。またひろいほうはなんこぶんおおいかこたえましょう。

① ひろいのは で こおおい。

② ひろいのは で こおおい。