




11から 20までの かずを かいて おぼえましょう。


11	じゅういち 	11							
12	じゅうに 	12							
13	じゅうさん 	13							
14	じゅうし(よん) 	14							
15	じゅうご 	15							
16	じゅうろく 	16							
17	じゅうしち(なな) 	17							
18	じゅうはち 	18							
19	じゅうく(きゅう) 	19							
20	にじゅう 	20							


1 かずを かぞえて □ に かきましょう。


①  15

②  16

③  12

④  14

⑤  17

⑥  18

2 あてはまる かずを □ に かきましょう。

① 15 は 10 と 5

② 19 は 10 と 9

③ 13 は 10 と 3

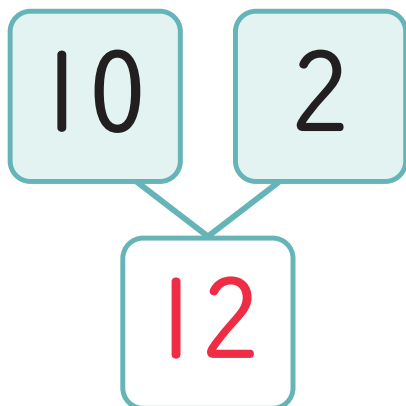
④ 20 は 10 と 10

⑤ 10 と 6 で 16

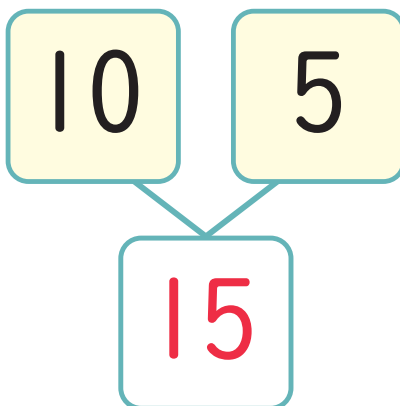
⑥ 10 と 8 で 18

あてはまる かずを □ に かきましょう。

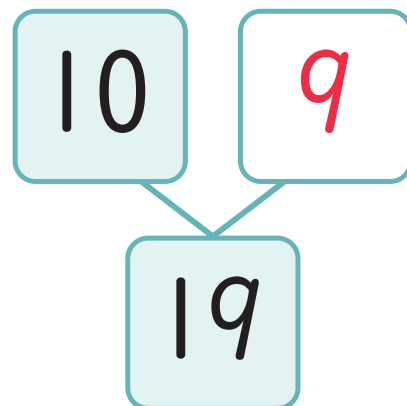
1



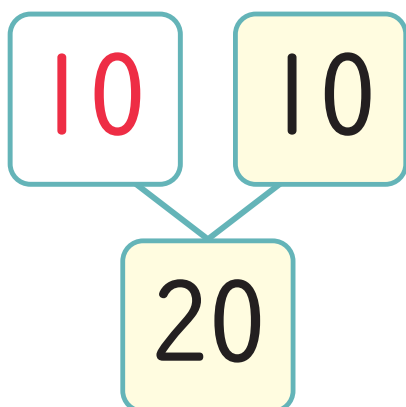
2



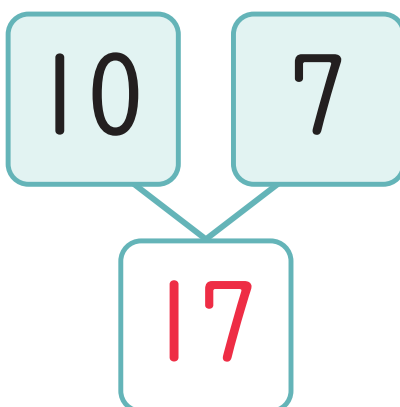
3



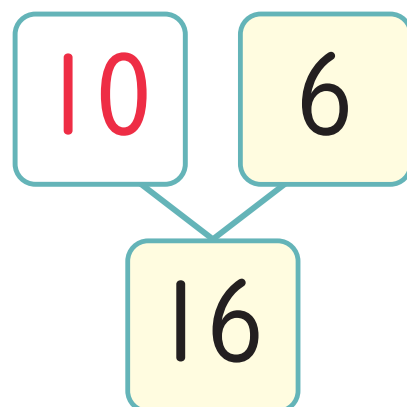
4



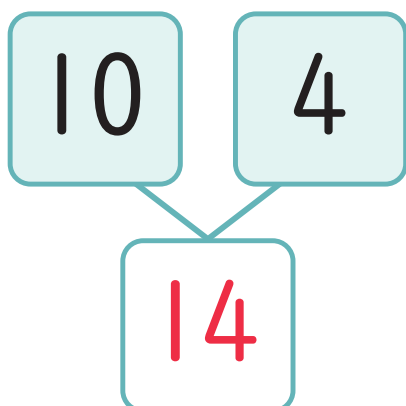
5



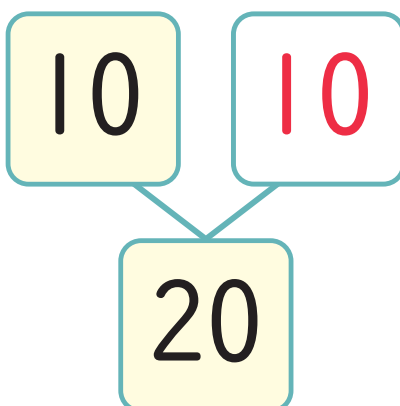
6



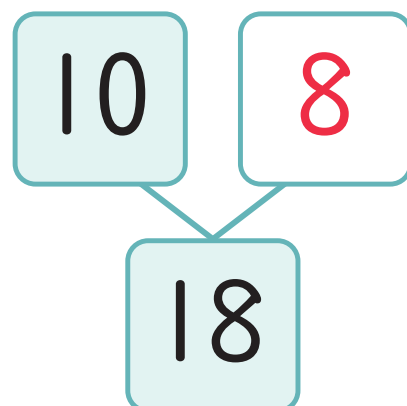
7



8



9



あてはまる かずを □ に かきましょう。

1 10 — 11 — 12 — 13 — 14 — 15

2 12 — 13 — 14 — 15 — 16 — 17

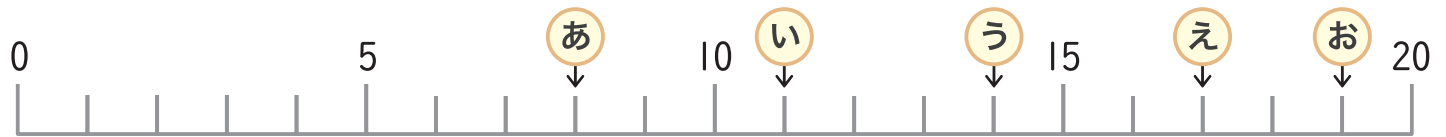
3 14 — 15 — 16 — 17 — 18 — 19

4 15 — 14 — 13 — 12 — 11 — 10

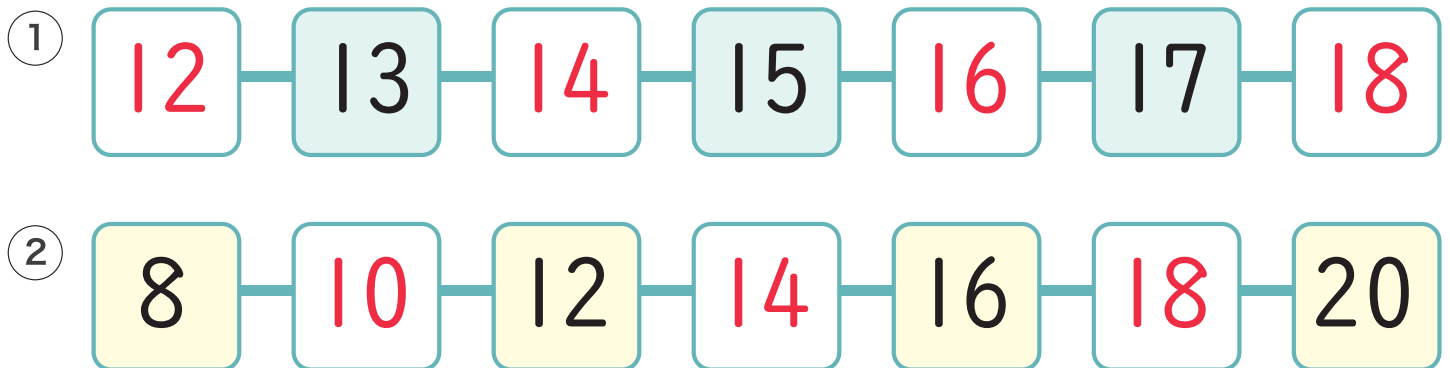
5 20 — 19 — 18 — 17 — 16 — 15

6 10 — 12 — 14 — 16 — 18 — 20

1 かずのせんをみて □ にあてはまるかずをかきましょう。



2 あてはまるかずを □ にかきましょう。



3 あてはまるかずをぜんぶかきましょう。

① 12と17のあいだにあるかず

13、14、15、16

② 15と20のあいだにあるかず

16、17、18、19

1 かずが おおきいほうの □ に まるを つけましょう。

①



②



③



④



2 かずのせんをみて □ に あてはまる かずを かきましょう。



① 11より 2 おおきい
かずは

13

② 16より 3 おおきい
かずは

19

③ 8より 7 おおきい
かずは

15

④ 14より 2 ちいさい
かずは

12

⑤ 19より 6 ちいさい
かずは

13

⑥ 20より 4 ちいさい
かずは

16

1 いちばん おおきい かずの □ に ○ を つけましょう。

①	12	18	15	②	19	17	18
	<input type="checkbox"/>	<input checked="" type="checkbox"/>	<input type="checkbox"/>		<input checked="" type="checkbox"/>	<input type="checkbox"/>	<input type="checkbox"/>
③	16	20	12	④	14	15	17
	<input type="checkbox"/>	<input checked="" type="checkbox"/>	<input type="checkbox"/>		<input type="checkbox"/>	<input type="checkbox"/>	<input checked="" type="checkbox"/>

2 つぎの かずを ちいさい かずから じゅんにかきましよう。

① 10、8、15、18	② 16、13、10、9
8、10、15、18	9、10、13、16
③ 19、17、12、20	④ 16、20、13、11
12、17、19、20	11、13、16、20
⑤ 13、15、11、20、17、16、19、10	
10、11、13、15、16、17、19、20	