


























かずを せいりして しらべて みましょう。

1 くだものの かずだけ いろを めりましょう。



りんご 	    
ばなな 	    
みかん 	    
すいか 	    

2 いちばん おおい くだものは
どれですか。

みかん

3 いちばん すくない くだものは
どれですか。

すいか

4 りんごは なんこ ありますか。

4 こ

5 みかんは なんこ ありますか。

5 こ

かずしらべ

かずを せいりして しらべて みましょう。

1 おやつのかずだけ いろを めりましょう。

	けーき	
	きゃんてい	
	ぷりん	
	どーなつ	

2 いちばん おおい おやつは
どれですか。

きゃんてい

3 かずが おなじ おやつは
どれと どれ ですか。

けーき

と

ぷりん

4 どーなつと ぷりんの かずは
それぞれ なんこ ですか。

どーなつ

2

こ

ぷりん

4

こ


5 きゃんていは どーなつより
なんこ おおい ですか。





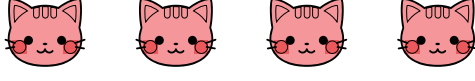






3

こ

かずを せいりして しらべて みましょう。

1 どうぶつの かずだけ いろを めりましょう。



いぬ 	 
ねこ 	 
うさぎ 	
ぞう 	 

2 5ひき いるのは どの どうぶつ
ですか。

うさぎ

3 かずが 3ばんめに おおいは
どの どうぶつ ですか。

いぬ


4 かずが 3ばんめに すくないのは
どの どうぶつ ですか。

ねこ

5 うさぎは ぞうより
なんひき おおいですか。

3 ひき

やさいの かずを しらべて せいり しましょう。



1 やさいの かずだけ みぎの えに
いるを ぬりましょう。

2 いちばん かずが すくない やさいは
どれですか。

とまと

3 いちばん かずが おおい やさいは
どれですか。

にんじん

4 ぴいまんは なんこ
ありますか。

7 こ

5 にんじんは とまとより
なんこ おおい ですか。

5 こ

6 2ばんめに すくない やさいは
どれですか。

なすび

とまと	にんじん	ぴいまん	なすび

