

1 たしざんを しましょう。

$① \quad 2 + 0 = \boxed{2} \quad ② \quad 3 + 0 = \boxed{3}$

$③ \quad 0 + 5 = \boxed{5} \quad ④ \quad 0 + 8 = \boxed{8}$


$⑤ \quad 9 + 0 = \boxed{9} \quad ⑥ \quad 0 + 0 = \boxed{0}$

2 こたえが 5 になる かあどに ○ を つけて、こたえが 5 にならない かあどには こたえを かきましょう。

$2 + 3 \quad \boxed{\bigcirc} \quad 5 + 0 \quad \boxed{\bigcirc}$

$5 + 1 \quad \boxed{6} \quad 4 + 1 \quad \boxed{\bigcirc}$

3 わなげを しました。1かいめに 3こ はいり、
2かいめは はいりませんでした。わなげは
ぜんぶで なんこ はいりましたか。



しき

$3 + 0 = 3$

こたえ

3

こ

- 1 ぼうるすくいを しました。1かいめに 4こ すくい、
2かいめと 3かいめは すくえませんでした。



- ① 1かいめと 2かいめを あわせると
ぼうるは なんこに なりますか。

しき

$$4 + 0 = 4$$

こたえ

4

こ

- ② 2かいめと 3かいめを あわせると ぼうるは
なんこに なりますか。

しき

$$0 + 0 = 0$$

こたえ

0

こ

- 2 おなじ こたえになる かあどを ●—●で むすびましょう。

$4 + 1$

$6 + 0$

$5 + 3$

$0 + 7$

$3 + 4$

$0 + 5$

$8 + 0$

$2 + 4$

1 ひきざんを しましょう。

$① \quad 2 - 0 = \boxed{2}$

$② \quad 3 - 0 = \boxed{3}$

$③ \quad 0 - 0 = \boxed{0}$

$④ \quad 8 - 0 = \boxed{8}$

$⑤ \quad 5 - 0 = \boxed{5}$

$⑥ \quad 10 - 0 = \boxed{10}$

2 こたえが 3 になる かあどに ○をつけて、こたえが 3 にならない かあどには こたえを かきましょう。


$9 - 6 \quad \boxed{\bigcirc}$

$7 - 5 \quad \boxed{2}$

$3 - 0 \quad \boxed{\bigcirc}$

$10 - 7 \quad \boxed{\bigcirc}$

3 2つのおさらのりんごの かずのちがいを こたえましょう。



しき

$5 - 0 = 5$

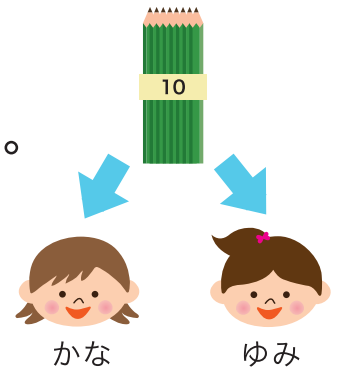
こたえ

5

こ

0のひきざん

1 えんぴつが 10 ぽん あります。かなさんに 4 ほんかして、ゆみさんには かしませんでした。



① かなさんと ゆみさんの えんぴつの かずの ちがいは なんほん ですか。

しき

$$4 - 0 = 4$$

こたえ

4

ほん

② のこっている えんぴつは なんほん ですか。

しき

$$10 - 4 = 6$$

こたえ

6

ほん

2 おなじ こたえになる かあどを ●—● で むすびましょう。

6 - 0	●	4 - 0
5 - 1	●	8 - 0
3 - 0	●	8 - 2
10 - 2	●	9 - 6

Red lines connect the dots between boxes to show pairings: 6-0 to 8-2, 5-1 to 8-0, 3-0 to 9-6, and 10-2 to 4-0.

1 たしざんを しましょう。

$1 + 0 = 1$

$0 + 0 = 0$

$0 + 3 = 3$

$4 + 0 = 4$

$6 + 0 = 6$

$0 + 8 = 8$

$9 + 0 = 9$

$10 + 0 = 10$

2 ひきざんを しましょう。

$1 - 0 = 1$

$0 - 0 = 0$

$2 - 0 = 2$

$4 - 0 = 4$

$5 - 0 = 5$

$7 - 0 = 7$

$9 - 0 = 9$

$10 - 0 = 10$

1 かあどの こたえが おおきいほうの に ○ を つけましょう。

- | | | | | |
|---|---------|-------------------------------------|---------|-------------------------------------|
| ① | $2 + 0$ | <input type="checkbox"/> | $1 + 2$ | <input checked="" type="checkbox"/> |
| ② | $1 + 3$ | <input type="checkbox"/> | $0 + 5$ | <input checked="" type="checkbox"/> |
| ③ | $7 + 0$ | <input checked="" type="checkbox"/> | $4 + 2$ | <input type="checkbox"/> |
| ④ | $5 + 3$ | <input type="checkbox"/> | $9 + 0$ | <input checked="" type="checkbox"/> |

2 かあどの こたえが ちいさいほうの に ○ を つけましょう。

- | | | | | |
|---|----------|-------------------------------------|---------|-------------------------------------|
| ① | $5 - 3$ | <input checked="" type="checkbox"/> | $3 - 0$ | <input type="checkbox"/> |
| ② | $5 - 0$ | <input type="checkbox"/> | $7 - 3$ | <input checked="" type="checkbox"/> |
| ③ | $10 - 3$ | <input checked="" type="checkbox"/> | $8 - 0$ | <input type="checkbox"/> |
| ④ | $9 - 2$ | <input type="checkbox"/> | $6 - 0$ | <input checked="" type="checkbox"/> |