





1 かずを かぞえて □ に かきましょう。

①  104

②  110

③  127

④  113

2 あてはまる かずを □ に かきましょう。

① 100 と 5 で 105

② 100 と 10 で 110

③ 100 と 14 で 114

④ 100 と 18 で 118

⑤ 120 は 100 が 1 こと 10 が 2 こ のかず です。

1 あてはまる かずを □ に かきましょう。

① 10 が 10 ことで

② 10 が 12 ことで

③ 100 が 1 こと
1 が 5 ことで

④ 100 が 1 こと
10 が 1 ことで

⑤ 103 は 100 が こと 1 が このかず です。

⑥ 120 は 100 が こと 10 が このかず です。

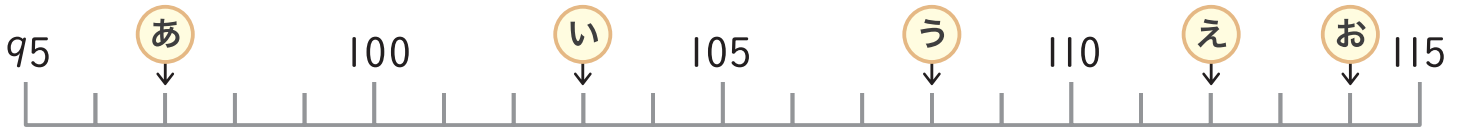
2 あてはまる かずを □ に かきましょう。

① — — — — — —

② — — — — — —

③ — — — — — —

1 かずのせんをみて □にあてはまるかずをかきましょう。



あ 97 い 103 う 108 え 112 お 114

2 あてはまるかずを □にかきましょう。

① 101 — 102 — 103 — 104 — 105 — 106 — 107

② 90 — 95 — 100 — 105 — 110 — 115 — 120







3 あてはまるかずを □にかきましょう。

① 100より5おおきいかずは 105 ② 100より10おおきいかずは 110

③ 100より18おおきいかずは 118 ④ 100より10ちいさいかずは 90

⑤ 100より5ちいさいかずは 95 ⑥ 100より20ちいさいかずは 80

1 かずが おおきいほうの に まるを つけましょう。

①	<input type="checkbox"/> 90  100 <input type="checkbox"/>	②	<input type="checkbox"/> 105  104 <input type="checkbox"/>
③	<input type="checkbox"/> 118  119 <input type="checkbox"/>	④	<input type="checkbox"/> 120  110 <input type="checkbox"/>
⑤	<input type="checkbox"/> 100  99 <input type="checkbox"/>	⑥	<input type="checkbox"/> 102  112 <input type="checkbox"/>

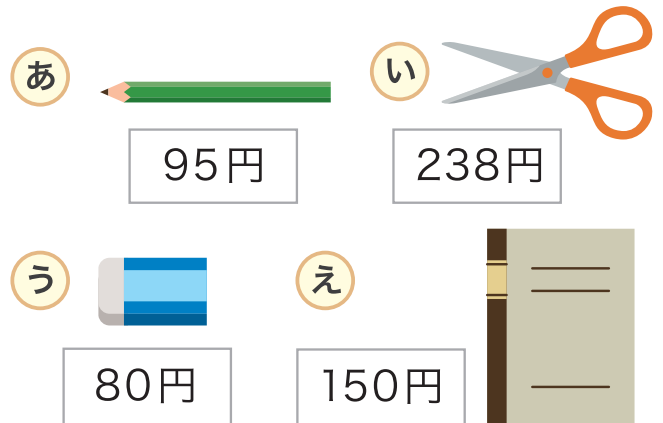
2 あてはまる かずを に かきましょう。

① 100 より 3 おおきい かずは	<input style="border: 2px solid red; border-radius: 15px; padding: 5px 15px;" type="text" value="103"/>	② 100 より 16 おおきい かずは	<input style="border: 2px solid red; border-radius: 15px; padding: 5px 15px;" type="text" value="116"/>
③ 100 より 1 ちいさい かずは	<input style="border: 2px solid red; border-radius: 15px; padding: 5px 15px;" type="text" value="99"/>	④ 120 より 10 ちいさい かずは	<input style="border: 2px solid red; border-radius: 15px; padding: 5px 15px;" type="text" value="110"/>
⑤ 100 と 6 を あわせた かずは	<input style="border: 2px solid red; border-radius: 15px; padding: 5px 15px;" type="text" value="106"/>	⑥ 100 と 12 を あわせた かずは	<input style="border: 2px solid red; border-radius: 15px; padding: 5px 15px;" type="text" value="112"/>

20よりおおきいかず

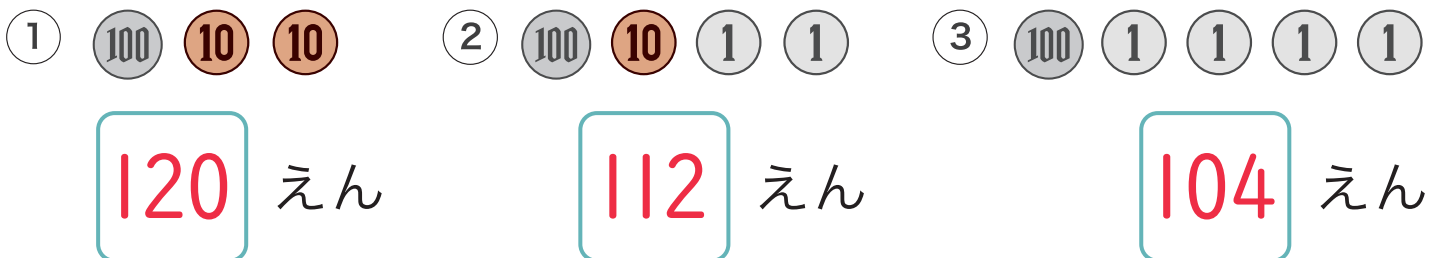
がつ	にち
なまえ	

- 1 つぎの **あ**～**え** のなかで
100えんだまで かえるものを
ぜんぶ かきましょう。



あ、う

- 2 つぎの おかねは ぜんぶで いくらあるか こたえましょう。



- 3 つぎの かずを ちいさい かずから じゅんに かきましょう。

- ① 80、100、90、60 ② 105、112、84、99

60、80、90、100

84、99、105、112

- ③ 92、78、114、86、105、109、118

78、86、92、105、109、114、118

- ④ 115、100、120、116、102、108、113

100、102、108、113、115、116、120