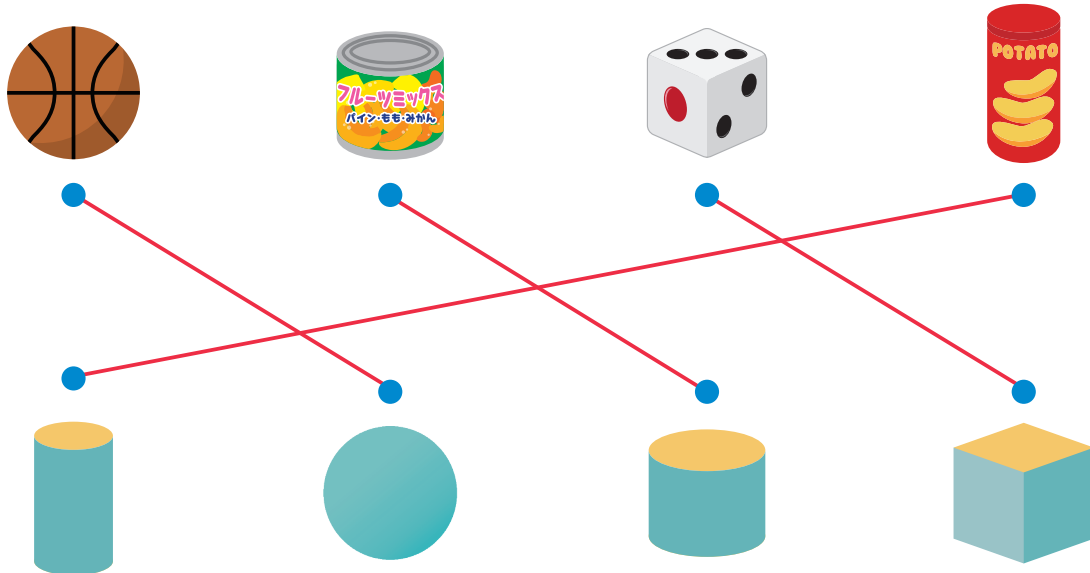



1 かたちが おなじ なかまを ●—● で むすびましょう。




2 ひだりの かたちと おなじ なかまを まるで かこみましょう。




1 おなじ かたちの なかまに わけましょう。




 のなかま

① ④ ⑤ ⑨

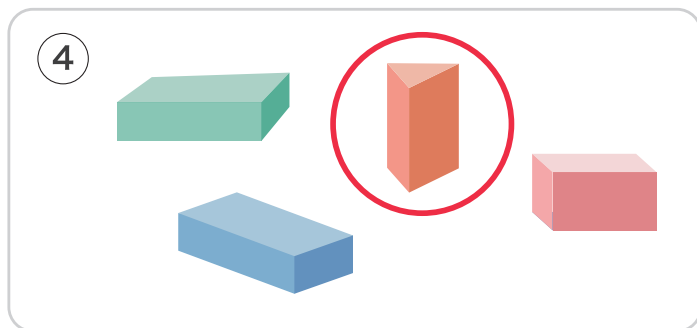



 のなかま

② ⑥ ⑧

 のなかま

③ ⑦ ⑩

2 なかまが ちがう かたちを まるで かこみましょう。



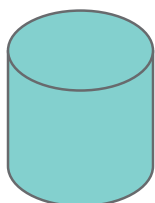
# いろいろなかたち

1 つぎの あ～く の かたちを  のなかまと、 のなかまに わけましょう。

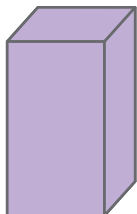
はこ

つつ

あ



い



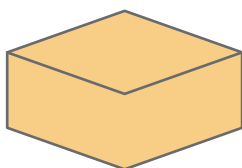
う



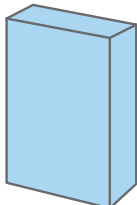
え



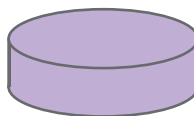
お



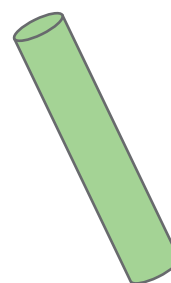
か



き

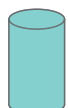


く



のなかま…

い、え、お、か



のなかま…

あ、う、き、く

2 あ～お の かたちをつかって かみに つぎの かたちを うつしとりました。どのかたちをつかいましたか。

あ



い



う




え



お




①



う

②



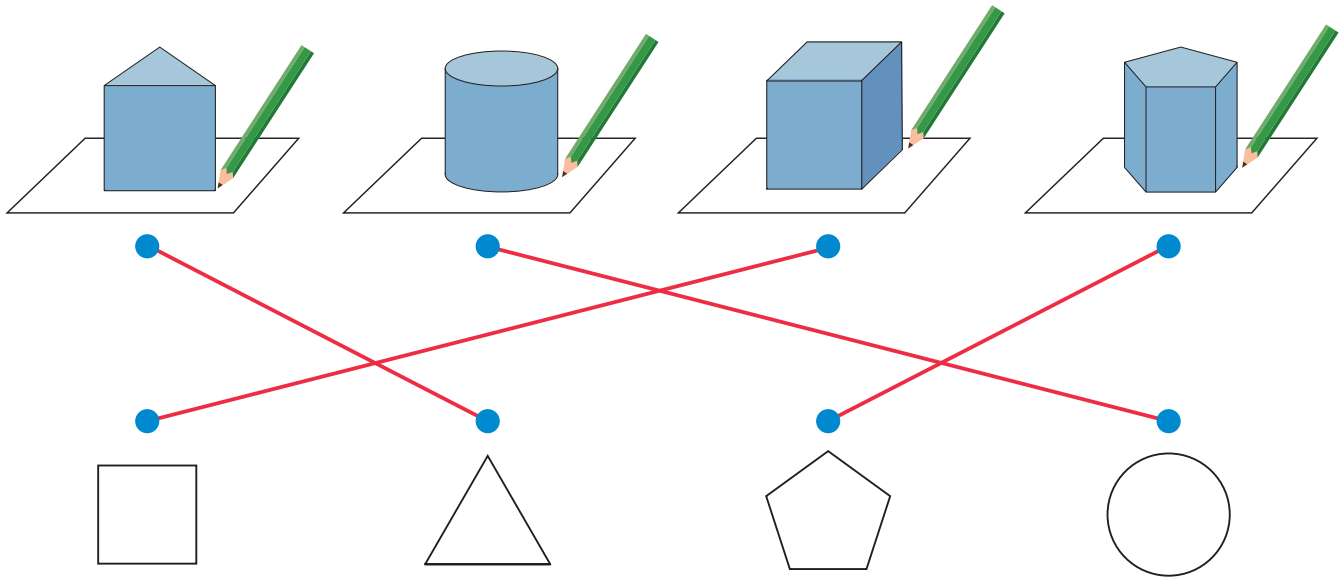
え

③

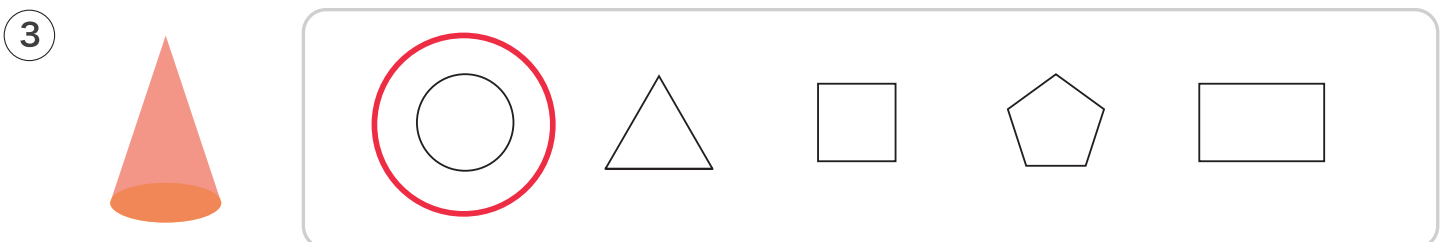
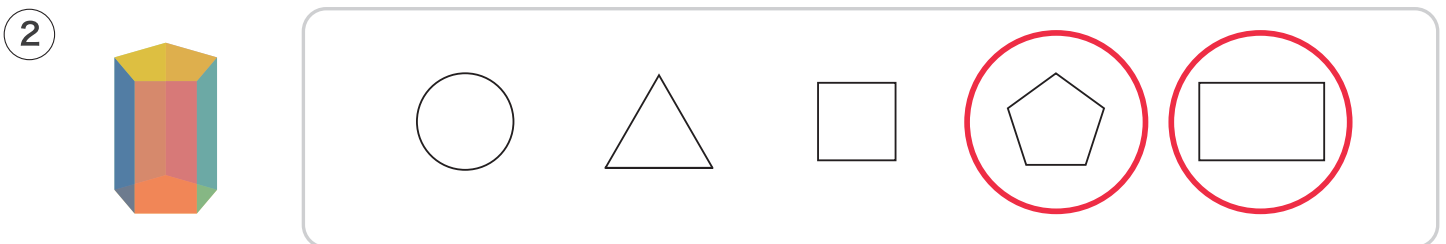
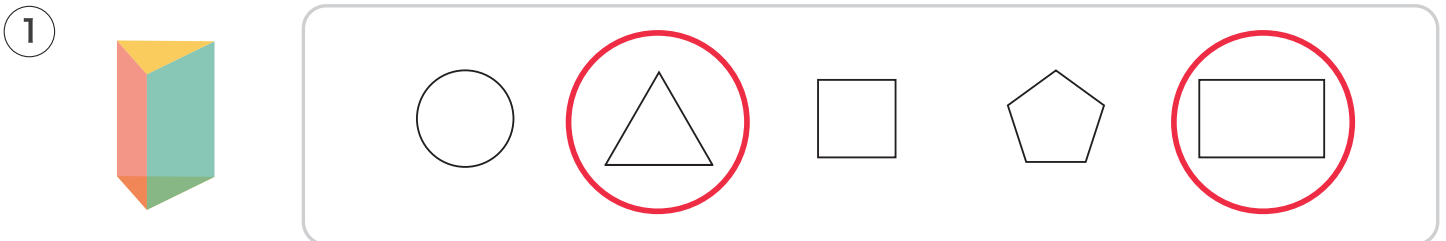


い

- 1 かたちを うつして えを かきました。  
できた かたちを ●—● で むすびましょう。



- 2 うつしとれる かたちを ぜんぶ まるで かこみましょう。




1 つぎの かたちから うつしとれる かたちを あ～おの なかから すべて えらびましょう。



あ



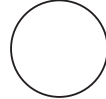
い



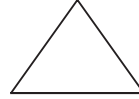
う



え




お



い、お

2 みぎの かたちの なかに つぎの かたちは なんこ ありますか。



のかたち…

9

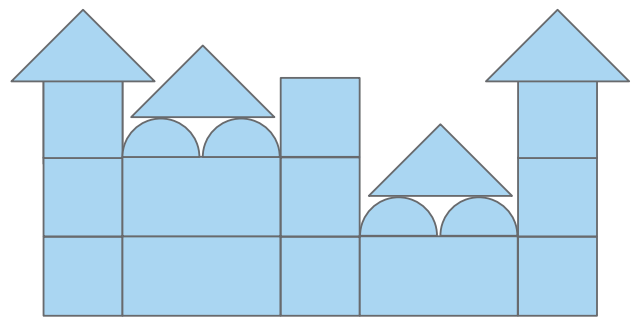
こ



のかたち…

4


こ



3 あ～おの つみきを つかって かたちを つくりました。

① つぎの かたちで つかった つみきを あ～おの なかから すべて えらびましょう。

あ、う、え、お




あ



い



う




え





お

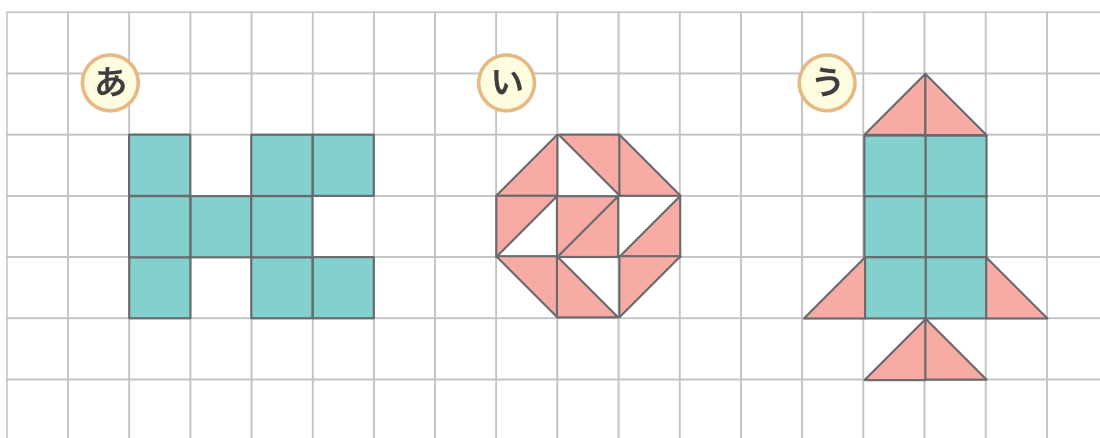



② つみきで つぎの かたちを うつしとりました。 つかったのは あ～おの どれでしょう。




い


1  と  の かたちを つかって つぎの えをつくりました。



① ① あ は  を なんまい つかって いますか。 9 まい

② ② い は  を なんまい つかって いますか。 10 まい

③ ③ う は  と  を なんまいずつ つかって いますか。

 ... 6 まい  ... 6 まい

2 つぎの かたちを ----- で きると きりくちは ① あ ~ ④ え の どれに なりますか。

