

小
一

さんすうもんだい

あわせていくつ/ふえるといくつ



がつ 日にち

なまえ

かにはふえると なんひきに なりますか。

しきと こたえを かきましょう。

1



しき



$$2 + 3 = 5$$

こたえ

5

ひき

2



しき



$$3 + 4 = 7$$

こたえ

7

ひき

3



しき


$$5 + 3 = 8$$

こたえ

8

ひき

4



しき

$$4 + 2 = 6$$

こたえ

6

ひき