


くだものは あわせて なんこに なりますか。

に しきと こたえを かきましょう。

1



しき


$$5 + 3 = 8$$

こたえ

8

こたえ

2



しき


$$3 + 4 = 7$$

こたえ

7

こたえ

3



しき


$$7 + 2 = 9$$

こたえ

9

こたえ

4



しき

$$6 + 4 = 10$$

こたえ

10

こたえ