

小
一

さんすうもんだい

あわせていくつ/ふえるといくつ

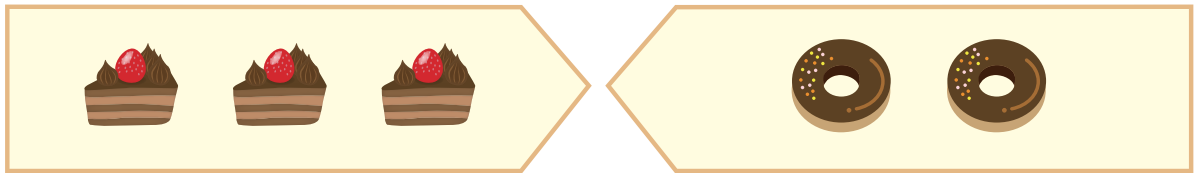
がつ 日にち

なまえ

けーきと どーなつは あわせて いくつに なりますか。

にかずを 入れて しきと こたえを かきましょう。

1



けーき

どーなつ

しき

3

+

2

=

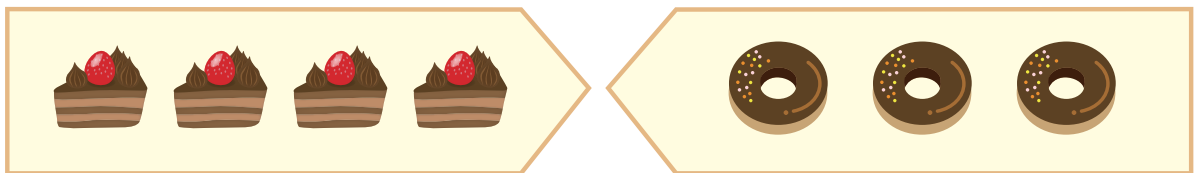
5

こたえ

5

こ

2



けーき

どーなつ

しき

4

+

3

=

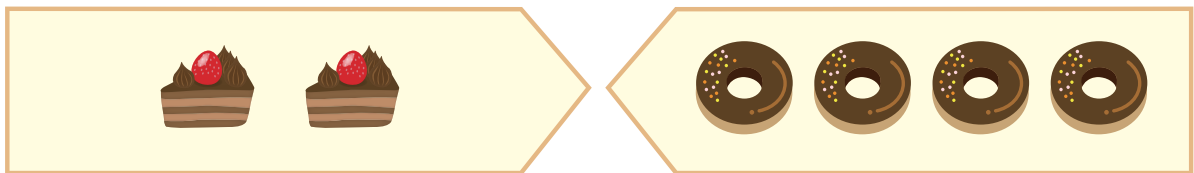
7

こたえ

7

こ

3



けーき

どーなつ

しき

2

+

4

=

6

こたえ

6

こ