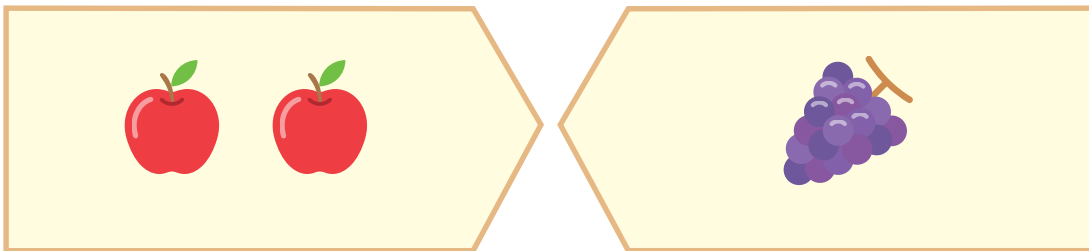


あわせていくつ でしょう。

1 りんごが 2こ、ぶどうが 1こ あります。

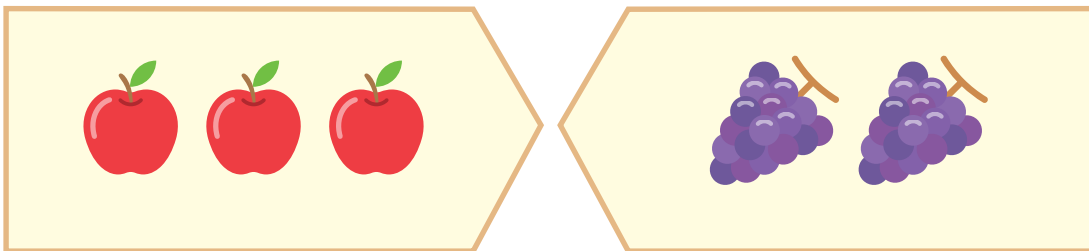


こたえ

3

こたえ

2 りんごが 3こ、ぶどうが 2こ あります。




こたえ

5

こたえ

3 りんごが 4こ、ぶどうが 2こ あります。




こたえ

6

こたえ

4 りんごが 4こ、ぶどうが 3こ あります。



こたえ

7

こたえ