













に あてはまる かずを かきましょう。

1 あといくつで 9 に なりますか。

①		と	<input type="text" value="8"/>	②		と	<input type="text" value="6"/>
③		と	<input type="text" value="5"/>	④		と	<input type="text" value="2"/>
⑤		と	<input type="text" value="3"/>	⑥		と	<input type="text" value="4"/>

2 あといくつで 10 に なりますか。

①		と	<input type="text" value="7"/>	②		と	<input type="text" value="4"/>
③		と	<input type="text" value="8"/>	④		と	<input type="text" value="1"/>
⑤		と	<input type="text" value="3"/>	⑥		と	<input type="text" value="5"/>