









に あてはまる かずを かきましょう。





1 あといくつで 6 に なりますか。

①		と	<input type="text" value="2"/>	②		と	<input type="text" value="4"/>
③		と	<input type="text" value="3"/>	④		と	<input type="text" value="1"/>

2 あといくつで 7 に なりますか。

①		と	<input type="text" value="6"/>	②		と	<input type="text" value="4"/>
③		と	<input type="text" value="2"/>	④		と	<input type="text" value="1"/>

3 あといくつで 8 に なりますか。

①		と	<input type="text" value="4"/>	②		と	<input type="text" value="1"/>
③		と	<input type="text" value="6"/>	④		と	<input type="text" value="3"/>