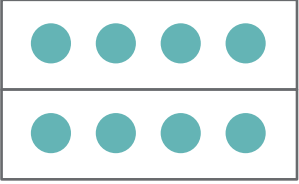
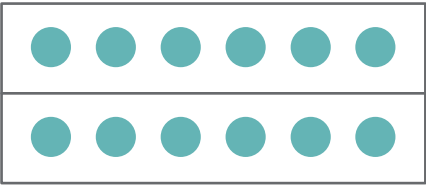
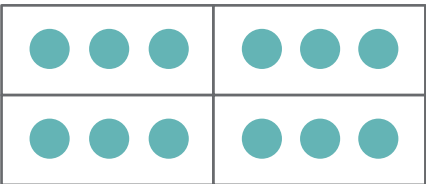
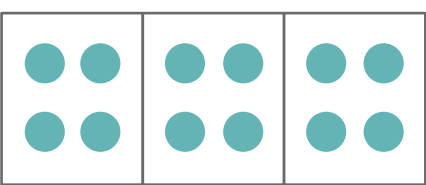

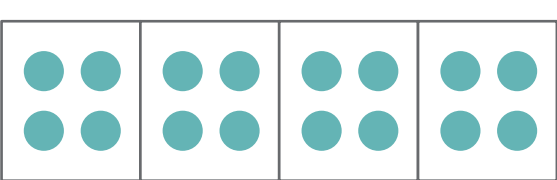


え み 絵を見て  に あてはまる かず か 数を 書きましょう。

- 1  8この  $\frac{1}{2}$  は 何こに なりますか。  こ
- 2  12この  $\frac{1}{2}$  は 何こに なりますか。  こ
- 3  12この  $\frac{1}{4}$  は 何こに なりますか。  こ
- 4  12この  $\frac{1}{3}$  は 何こに なりますか。  こ
- 5  18この  $\frac{1}{3}$  は 何こに なりますか。  こ
- 6  16この  $\frac{1}{4}$  は 何こに なりますか。  こ