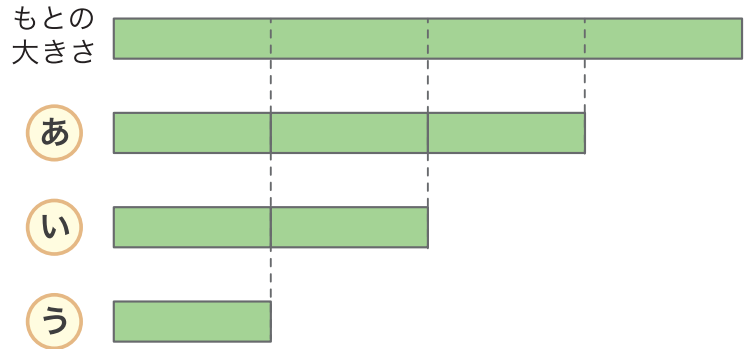


1 え み 絵を 見て こたえましょう。

① もとの 大きさの $\frac{1}{2}$ に なって いるのは どれでしょう。

い

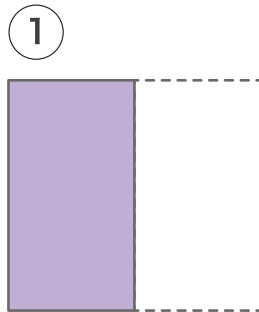


② う は もとの 大きさの 何分の1 に なりますか。

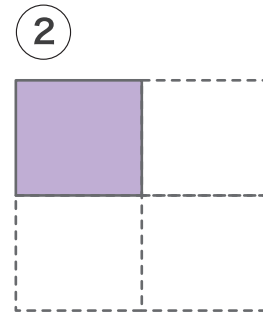
$\frac{1}{4}$

2 え み いる つぎの 絵を 見て 色を めったところは もとの 大きさの 何分の1 か こたえましょう。

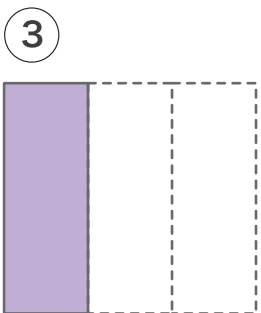
もとの大きさ



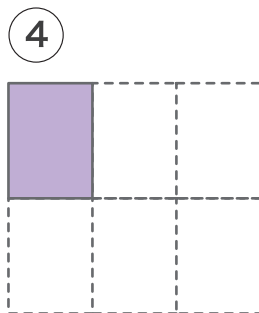
$\frac{1}{2}$



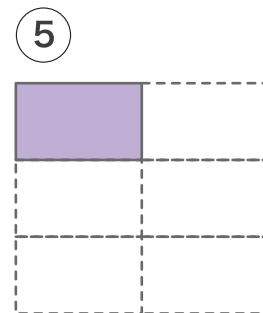
$\frac{1}{4}$



$\frac{1}{3}$



$\frac{1}{6}$



$\frac{1}{6}$