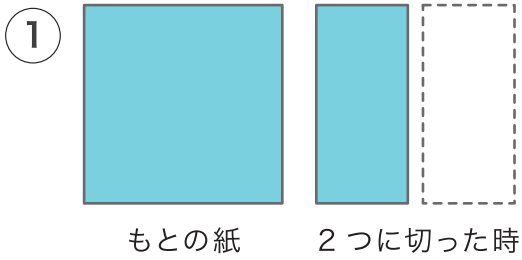
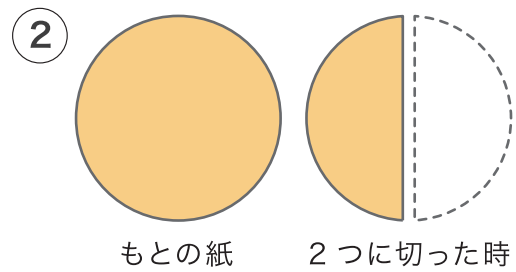


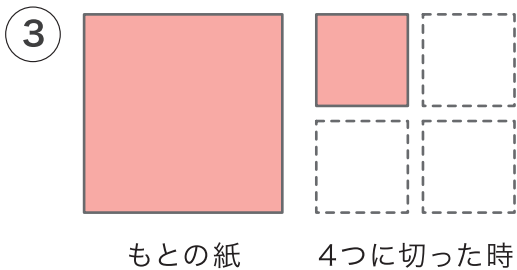
1 つぎのように 紙を 切った時、切った 1つ分の 紙の 大きさは もとの 紙の 何分の1 になったかを 分数で あらわしましょう。



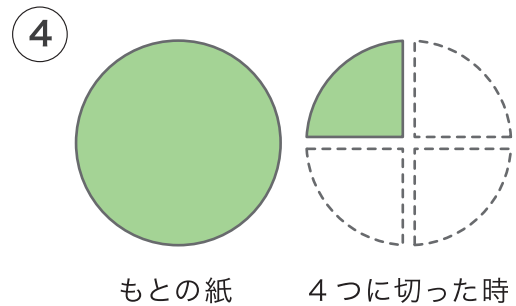
$$\frac{1}{2}$$



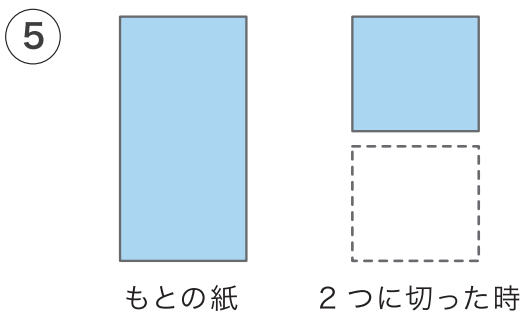
$$\frac{1}{2}$$



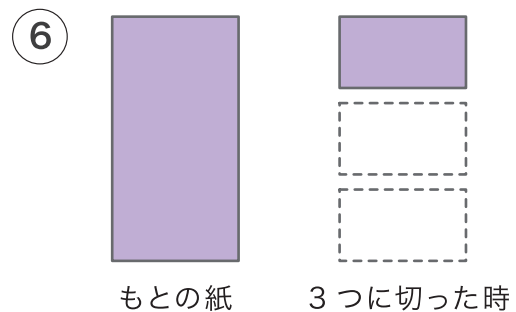
$$\frac{1}{4}$$



$$\frac{1}{4}$$



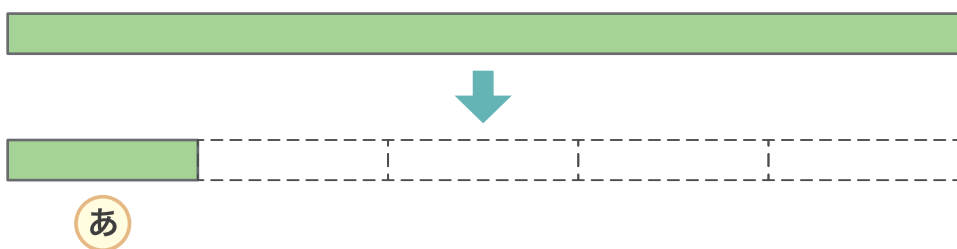
$$\frac{1}{2}$$



$$\frac{1}{3}$$

2 テープを 下のよう に 5つに 分けました。

あ は 何分の1 に なるでしょう。



$$\frac{1}{5}$$