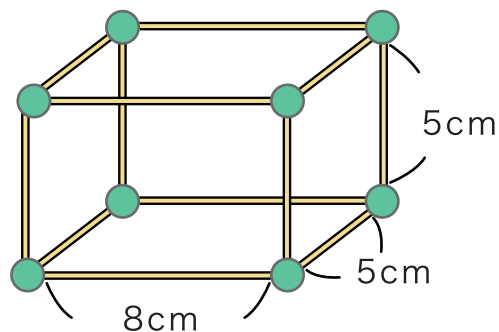


# はこの形

1 ひごと <sup>ど だま</sup>ねん土玉を つかってはこの形をつくります。

① <sup>なん</sup>ねん土玉は何こ  
いるでしょう。 8 こ

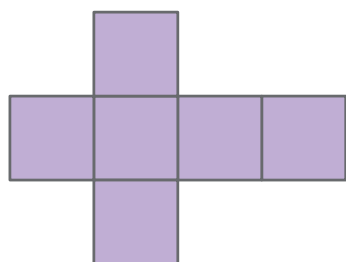


② <sup>なが</sup>どんな長さの <sup>ぼん</sup>ひごが何本  
ずつ いるでしょう。

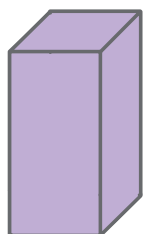
8cm… 4 本    5cm… 8 本

③ できたはこの形は <sup>めん</sup>面が 6 つ、<sup>てん</sup>ちょう点が 8 つ、  
<sup>へん</sup>辺が 12 つ あります。

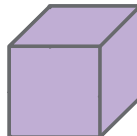
2 つぎの面をくみたててはこをつくとどんな形の  
はこができますか。 あ ~ う の中からこたえましょう。



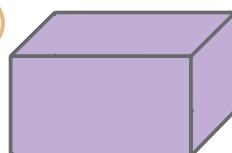
あ



い



う



い