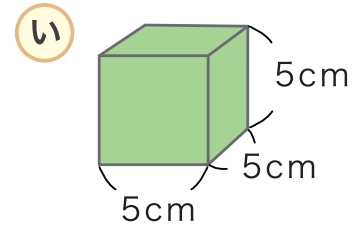
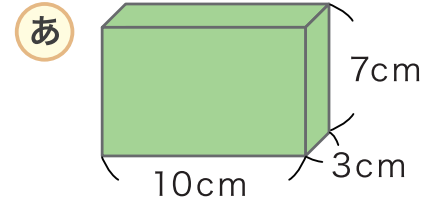


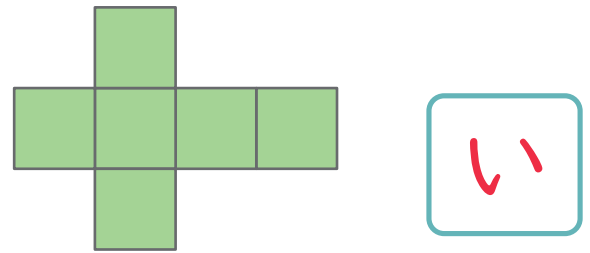
はこの形

に あてはまる 数や 言葉を 書きましょう。

1 この形は 面が **6** つ
 辺が **12** つ、 ちょう点が **8** つ
 から できています。



2 右のような 面を くみたてて はこを
 つくると **あ**と**い** の どちらの
 はこが できますか。



3 **あ** の はこの 面の 形は なんという
 四角形か こたえましょう。

長方形

4 **あ** の はこには 同じ 形の 面が
 いくつずつ あるでしょう。

2 つずつ

5 **い** の はこの 面の 形は なんという
 四角形か こたえましょう。

正方形

6 **い** の はこには 同じ 形の 面が
 いくつ あるでしょう。

6 つ