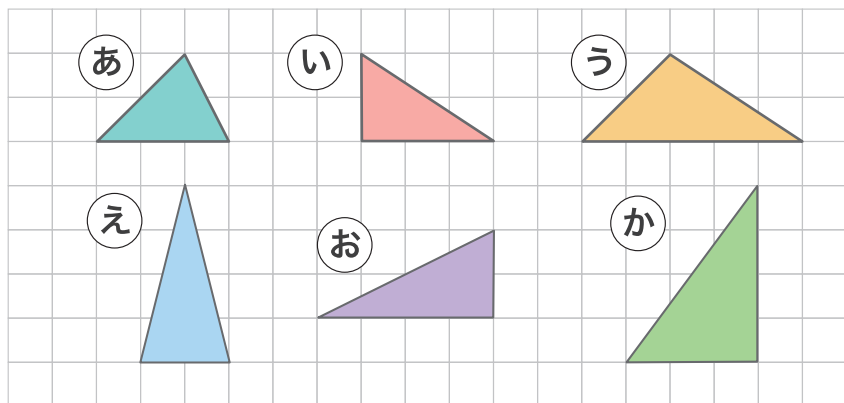


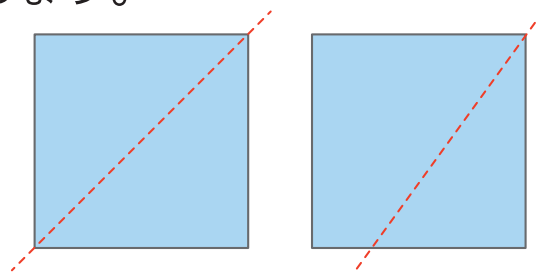
1 つぎの 形の 中から 直角三角形を 見つけて すべて  
 こたえましょう。



い、お、か

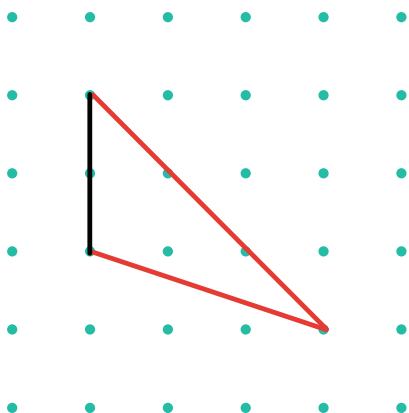
2 つぎの 2つの 正方形の 紙を それぞれ 直線で 切ると  
 直角三角形は いくつ できるでしょう。

3つ

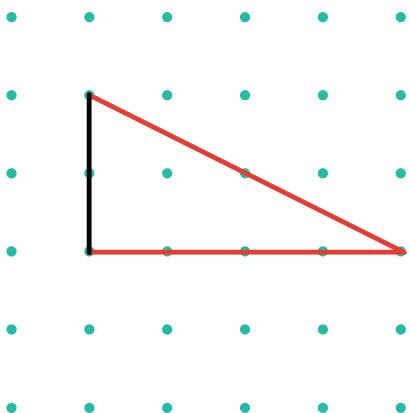


3 辺を 書きたして つぎの 形を 書きましょう。

① 三角形



② 直角三角形



③ 正方形

