


三角形と四角形

1 □ に あてはまる 数や 言葉を 書きましょう。



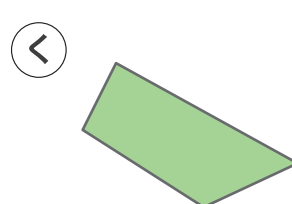
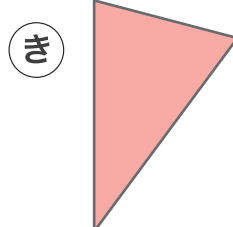
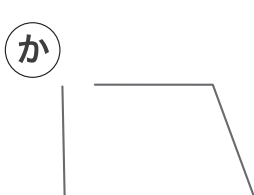
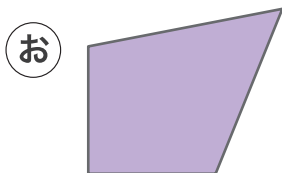
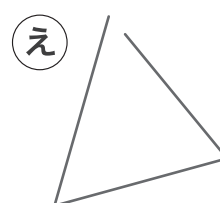
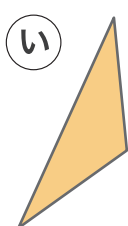
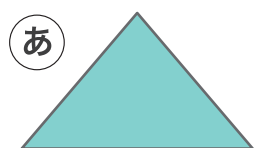
① 三角形は 3 本の 直線で

かこまれた 形 です。

② 四角形は 4 本の 直線で かこまれた 形 です。

③ 三角形は あ と い の どちら ですか。 あ

2 つぎの 形の中から 三角形と 四角形を 見つけて すべて こたえましょう。



三角形… あ、い、き

四角形… う、お、く