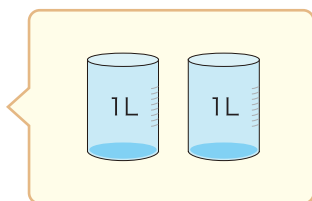


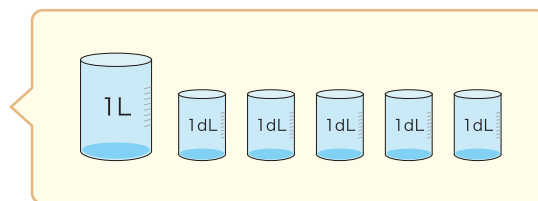
1 ペットボトルに 2L、紙パックに 1L 5dL の水が入ります。



ペットボトル



紙パック



① ペットボトルと紙パックのかさはあわせてどれだけでしょう。


$$2 \text{ L} + 1 \text{ L } 5 \text{ dL} = 3 \text{ L } 5 \text{ dL}$$

② ペットボトルと紙パックのかさのちがいはどれだけでしょう。

$$2 \text{ L} - 1 \text{ L } 5 \text{ dL} = 1 \text{ L } 5 \text{ dL}$$

2 バケツに 5L 7dL、ビンに 3L 2dL 入ります。

次のもんだいのしきとこたえを書きましょう。



① バケツとビンのかさはあわせてどれだけしょう。

しき  $5\text{L}7\text{dL} + 3\text{L}2\text{dL} = 8\text{L}9\text{dL}$       こたえ  $8\text{L}9\text{dL}$

② バケツとビンのかさのちがいはどれだけしょう。

しき  $5\text{L}7\text{dL} - 3\text{L}2\text{dL} = 2\text{L}5\text{dL}$       こたえ  $2\text{L}5\text{dL}$