

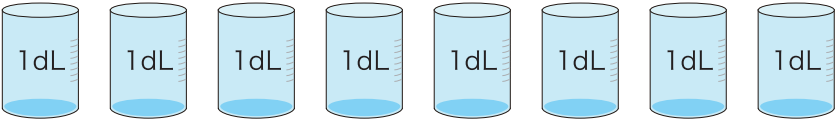
1 □ に あてはまる 数<sup>かず</sup>を 書<sup>か</sup>きましょう。


①  ペットボトルに 入<sup>はい</sup>る 水<sup>みず</sup>の かさ<sup>かさ</sup>は  
1dLの **5** つ分<sup>ぶん</sup>で **5** dLです。

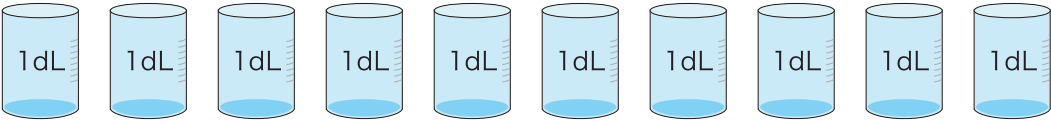
②  紙<sup>かみ</sup>パックに 入<sup>はい</sup>る 水<sup>みず</sup>の かさ<sup>かさ</sup>は  
1dLの **3** つ分<sup>ぶん</sup>で **3** dLです。

2 つぎの 水<sup>みず</sup>の かさ<sup>かさ</sup>は 何<sup>なん</sup>dL でしょう。

①  **2dL**      ②  **3dL**

③  **8dL**

④  **7dL**

⑤  **10dL**