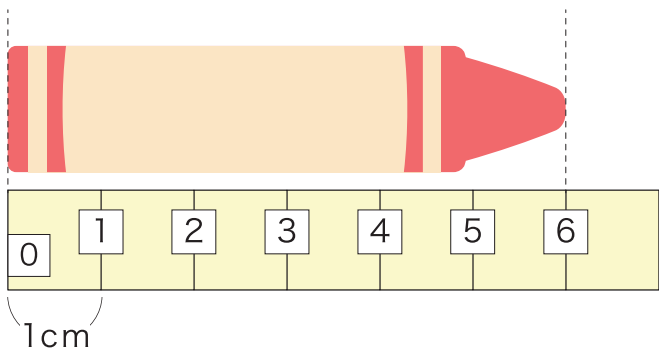
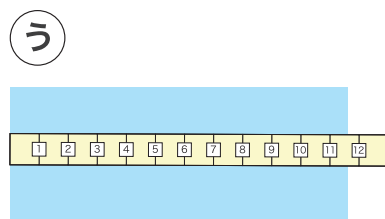
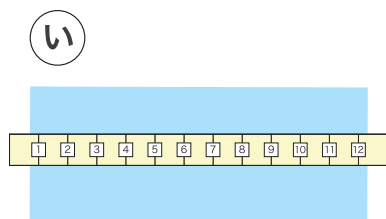
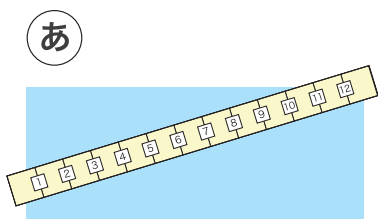


1 □ に あてはまる 数^{かず}を 書^かきましょう。



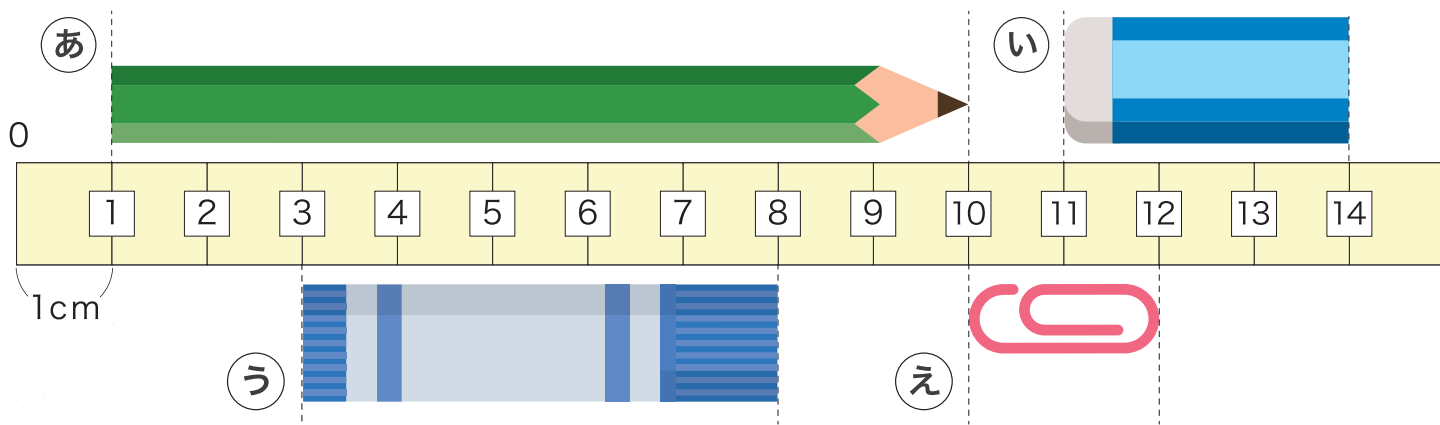
ひだり
左の クレヨンの 長さ^{ながさ}は 1cmの
6^{ぶん}こ分で 6 cm です。

2 正^{ただ}しく 長さ^{ながさ}を はか^かって いるのは どれ^{どれ}でしょう。



う

3 つぎの もの^{もの}の 長さ^{ながさ}は 何^{なん}cm に なる^{なる}でしょう。



あ 9 cm い 3 cm う 5 cm え 2 cm