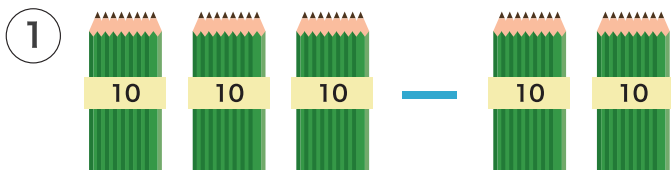



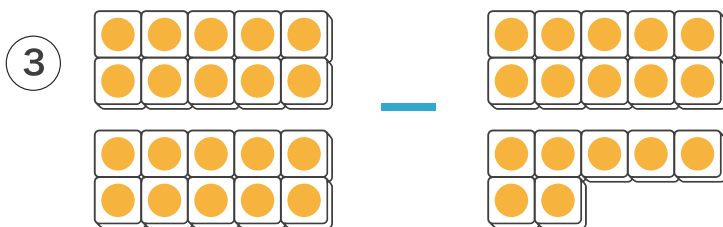
1 えをみて ひきざんを しましょう。



$$30 - 20 = 10$$



$$25 - 3 = 22$$



$$20 - 17 = 3$$

2 ひきざんを しましょう。

①  $40 - 30 = 10$

②  $60 - 20 = 40$

③  $100 - 40 = 60$

④  $85 - 3 = 82$

⑤  $79 - 6 = 73$

⑥  $99 - 8 = 91$

3 いろがみが 38まい あります。6まい つかうと  
のこりは なんまいに なりますか。



しき

$$38 - 6 = 32$$

こたえ

32 まい