



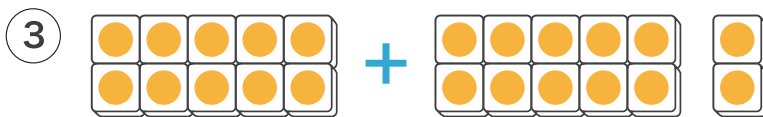
1 えをみて たしざんを しましょう。



$$20 + 30 = 50$$



$$32 + 3 = 35$$



$$10 + 12 = 22$$

2 たしざんを しましょう。

①  $10 + 60 = 70$

②  $40 + 50 = 90$

③  $30 + 70 = 100$

④  $22 + 5 = 27$

⑤  $53 + 7 = 60$

⑥  $35 + 4 = 39$

3 こうえんで 23 にん あそんでいます。そこへ  
さらに 5 にん くと なんにん になりますか。



しき

$$23 + 5 = 28$$

こたえ

28 にん