



のこりは いくつに なるでしょう。ひきざんをして こたえましょう。

1 りんごが 14こ ありました。2こ たべました。



2こ たべました

しき

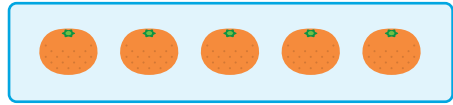

$$14 - 2 = 12$$

こたえ

12

こ

2 みかんが 15こ ありました。5こ たべました。



5こ たべました

しき

$$15 - 5 = 10$$

こたえ

10

こ

3 ケーキが 17こ ありました。4こ たべました。



4こ たべました

しき

$$17 - 4 = 13$$

こたえ

13

こ