


ぜんぶで いくつに なるでしょう。たしざんを して こたえましょう。

- 1 りんごが 10こ ありました。さらに 5こ もらいました。



しき

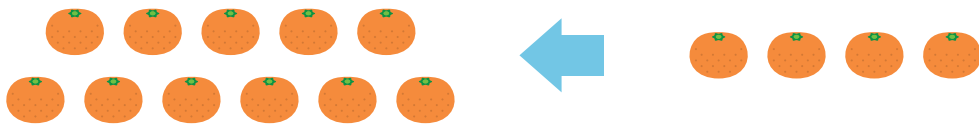
$$10 + 5 = 15$$

こたえ

15

こ

- 2 みかんが 11こ あります。さらに 4こ もらいました。



しき


$$11 + 4 = 15$$

こたえ

15

こ

- 3 けーきが 12こ あります。さらに 7こ もらいました。



しき

$$12 + 7 = 19$$

こたえ

19

こ