
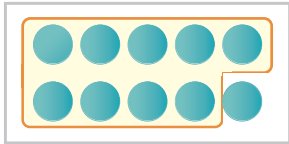


- 1 いちごが 17こ あります。9こ たべました。
のこりは なんこに なったでしょう。



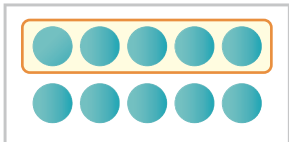
10と7に わけて かんがえてみよう



しき $17 - 9 = 8$ こたえ 8 こ

- 2 えんぴつが 14ほん あります。5ほん つかいました。
のこりは なんほんに なったでしょう。

10と4に わけて かんがえてみよう



しき $14 - 5 = 9$ こたえ 9 ほん

- 3 けーきが 16こ あります。そのうち 8こ たべました。
のこりは なんこに なったでしょう。

しき $16 - 8 = 8$ こたえ 8 こ