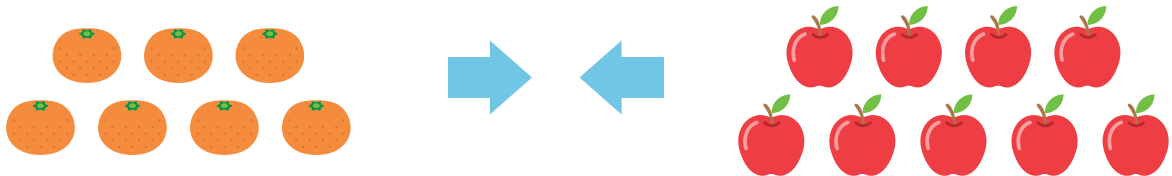


あわせて いくつになるでしょう。

- 1 みかんが 7こ、りんごが 9こ あります。



しき

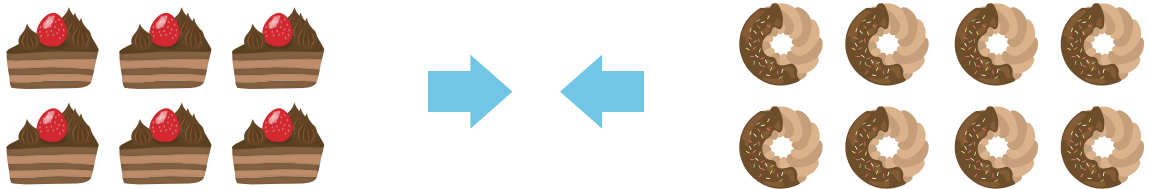
$$7 + 9 = 16$$

こたえ

16

こ

- 2 けーきが 6こ、どーナつが 8こ あります。



しき

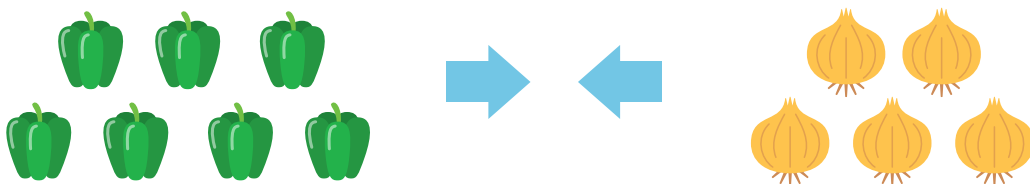
$$6 + 8 = 14$$

こたえ

14

こ

- 3 ぴーまんが 7こ、たまねぎが 5こ あります。



しき

$$7 + 5 = 12$$

こたえ

12

こ