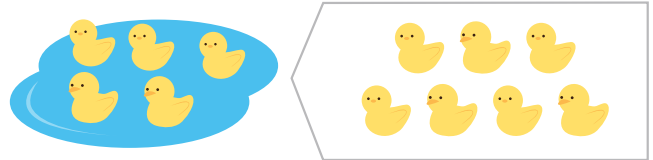
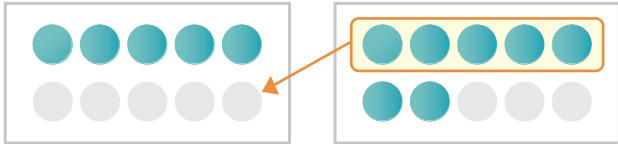


- 1 あひるが 5わ いました。さらに 7わ きました。
ぜんぶで なんわに なったでしょう。

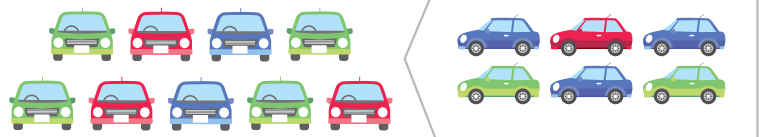
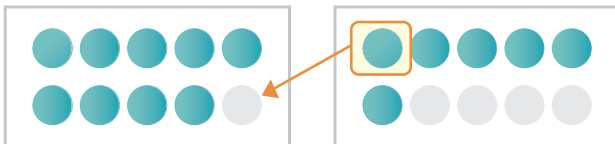
10をつかって かんがえよう



しき $5 + 7 = 12$ ことえ 12 わ

- 2 くるまが 9だい ありました。さらに 6だい きました。
ぜんぶで なんだいに なったでしょう。

10をつかって かんがえよう



しき $9 + 6 = 15$ ことえ 15 だい

- 3 えんぴつが 8ほん あります。さらに 9ほん もらいました。
ぜんぶで なんほんに なったでしょう。

しき $8 + 9 = 17$ ことえ 17 ほん