




あわせて いくつになるでしょう。

1 りんごが 2こあります 3こもらいました 1こもらいました



しき

$$2 + 3 + 1 = 6$$

こたえ

6

こ

2 どーナツが 3こあります 2こもらいました 2こもらいました



しき




$$3 + 2 + 2 = 7$$

こたえ

7

こ

3 えんぴつが 5ほんあります 3ほんもらいました 2ほんもらいました



しき

$$5 + 3 + 2 = 10$$

こたえ

10

ほん