






いれものにはいった みずを こっぷに うつして くらべました。



1 あ、い、う には こっぷ なんばいぶんの みずが はいるのでしょう。

あ 8 はい

い 5 はい

う 6 はい

2 あ は う より なんばい おおくの みずが はいるのでしょう。

2 はい

3 みずが いちばん おおく はいる いれものは どれでしょう。

あ

4 みずが おおく はいる じゅんに ならべましょう。

