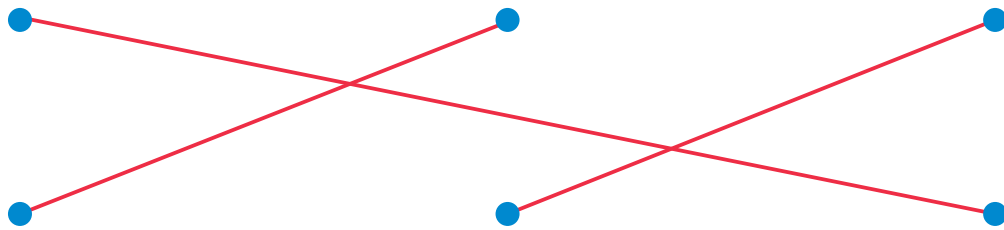


# なんじなんぷん

1 とけいの よみかたを ●—● で むすびましょう。


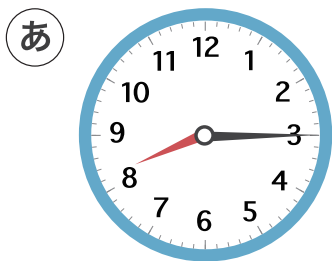


1じ45ふん

6じ10ふん

9じ20ふん

2 8じ35ふん のとけいは ㊤、㊦ の どちらでしょう。



3 11じ55ふん のとけいは ㊤、㊦ の どちらでしょう。

