







1 かずを かぞえて □ に かきましょう。

<p>①  □ 15</p>	<p>②  □ 16</p>
<p>③  □ 12</p>	<p>④  □ 14</p>
<p>⑤  □ 17</p>	<p>⑥  □ 18</p>

2 あてはまる かずを □ に かきましょう。

<p>① 15 は 10 と □ 5</p>	<p>② 19 は □ 10 と 9</p>
<p>③ 13 は 10 と □ 3</p>	<p>④ 20 は 10 と □ 10</p>
<p>⑤ 10 と □ 6 で 16</p>	<p>⑥ 10 と □ 8 で 18</p>