













かずを せいりして しらべて みましょう。

1 どうぶつの かずだけ いろを めりましょう。



いぬ 	 
ねこ 	 
うさぎ 	
ぞう 	 

2 5ひき いるのは どの どうぶつ
ですか。

うさぎ

3 かずが 3ばんめに おおいのは
どの どうぶつ ですか。

いぬ

4 かずが 3ばんめに すくないのは
どの どうぶつ ですか。

ねこ

5 うさぎは ぞうより
なんひき おおいですか。

3 ひき