

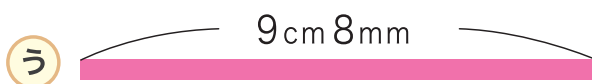
1 つぎの テープの 長さの ちがいを こたえましょう。

① **あ** のテープと、 **5** cm  
**え** のテープ。



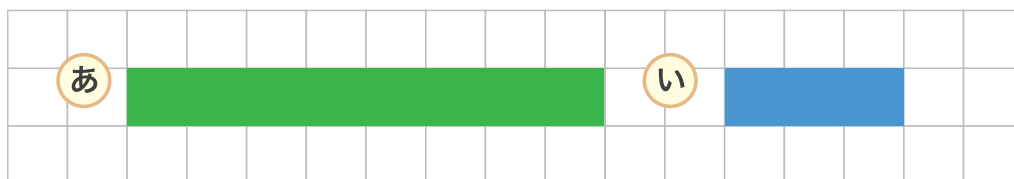
② **あ** のテープと、 **い** のテープ。

**2** cm **5** mm




③ **う** のテープと、 **え** のテープ。 **6** cm **8** mm

2 <sup>した</sup> 下のマスは 1 マスが 1cm です。 **あ** と **い** の テープの 長さの ちがいを <sup>か</sup> しきに 書いて こたえましょう。



しき  $8\text{cm} - 3\text{cm} = 5\text{cm}$  こたえ **5** cm

3 90mmの あつさの板と、30mmの あつさの板の あつさの ちがいを こたえましょう。



しき  $90\text{mm} - 30\text{mm} = 60\text{mm}$  こたえ **60** mm