


1 つぎの かたちから うつしとれる かたちを あ～おの なかから すべて えらびましょう。



あ



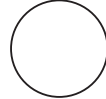
い



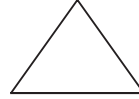
う



え




お



い、お

2 みぎの かたちの なかに つぎの かたちは なんこ ありますか。



のかたち…

9

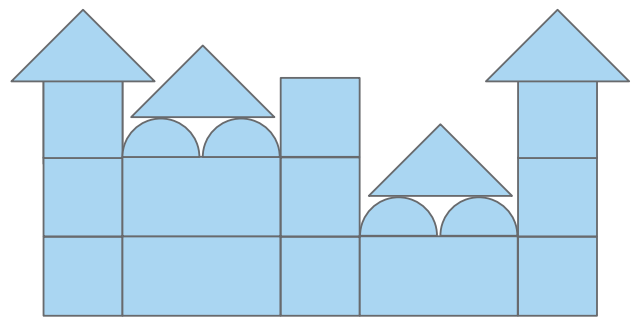
こ



のかたち…

4


こ



3 あ～おの つみきを つかって かたちを つくりました。

① つぎの かたちで つかった つみきを あ～おの なかから すべて えらびましょう。

あ、う、え、お




あ



い



う




え



お



② つみきで つぎの かたちを うつしとりました。 つかったのは あ～おの どれでしょう。



い