



1 おなじ かたちの なかまに わけましょう。




 のなかま

① ④ ⑤ ⑨

 のなかま

② ⑥ ⑧

 のなかま

③ ⑦ ⑩

2 なかまが ちがう かたちを まるで かこみましょう。

