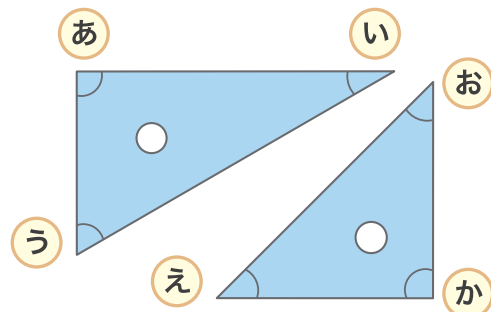


1 右の三角じょうぎを見て 答えましょう。

① 角が一番小さいのは
あ～かのどれですか。

い



② 角が直角になっているのは
あ～かのどれとどれですか。

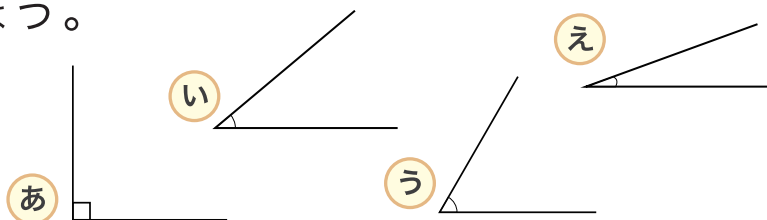
あ と か

③ あ～えの角の大きさを
小さいじゅんにならべましょう。

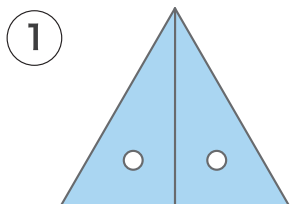
い、え、う、あ

2 つぎの あ～えの角の大きさをくらべて
大きいじゅんにならべましょう。

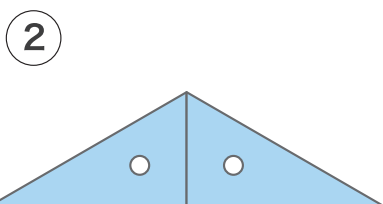
あ、う、い、え



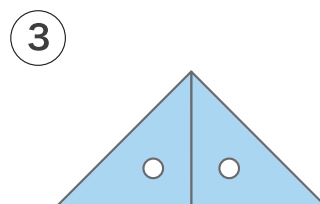
3 下のように 三角じょうぎを2まいならべて できた三角形が
何という三角形か 答えましょう。



正三角形



二等辺三角形



二等辺三角形
もしくは 直角三角形