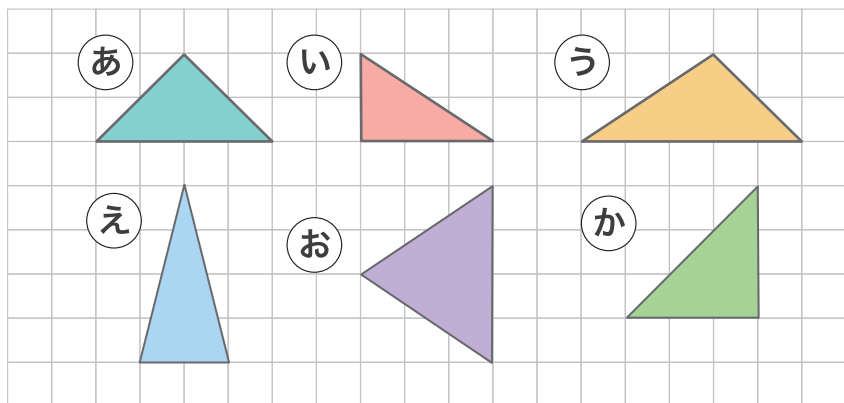
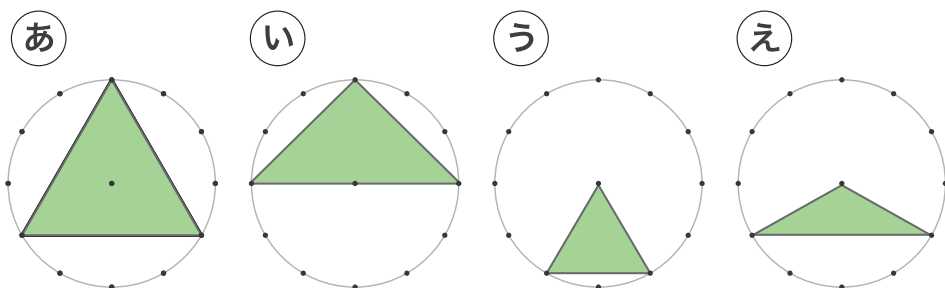


1 つぎの形の中から 二等辺三角形を見つけて 全て答えましょう。



あ、え、お、か

2 つぎの形の中から 正三角形を見つけて 全て答えましょう。



あ、う

3 つぎの三角形は 何という三角形か答えましょう。

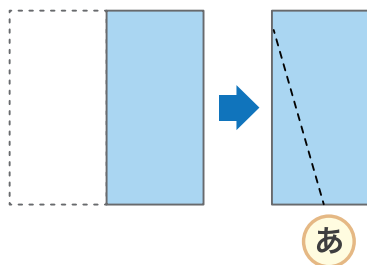
① 辺の長さが全て5cmの三角形

正三角形

② 辺の長さが8cm、12cm、12cmの三角形

二等辺三角形

③ おり紙を半分において  
あ の線で切った時に  
できる三角形



二等辺三角形