

1 にあてはまる 数や言葉を 書きましょう。

① つの辺の長さが等しい 三角形のことを
二等辺三角形といいます。

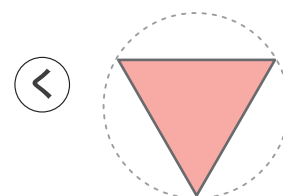
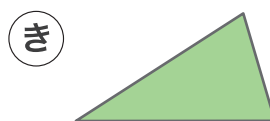
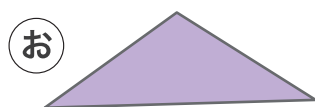


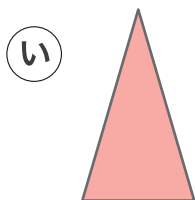
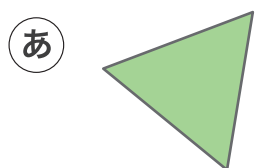


② つの辺の長さが等しい 三角形のことを
正三角形といいます。



③ 二等辺三角形は **あ** と **い** の どちら ですか。

2 つぎの形を 二等辺三角形と正三角形に 分けましょう。



二等辺三角形

い、え、お、か、き

正三角形

あ、う、く