

小  
一

さんすうもんだい


のこりはいくつ/ちがいはいくつ

がつ にち


なまえ

どーなつは のこり なんこに なりますか。  
えを みて □ に しきと こたえを かきましょう。

1



1こ  
たべました



しき


$$3 - 1 = 2$$

こたえ


2

こ

2



2こ  
たべました



しき


$$5 - 2 = 3$$

こたえ


3

こ

3



2こ  
たべました



しき

$$6 - 2 = 4$$

こたえ

4

こ