


のこりは なんひき でしょう。

1 はちが 5ひき います。3ひき とんでいきました。





こたえ

2

ひき

2 はちが 7ひき います。2ひき とんでいきました。




こたえ

5

ひき

3 はちが 8ひき います。4ひき とんでいきました。




こたえ

4

ひき

4 はちが 6ひき います。5ひき とんでいきました。



こたえ

1

ひき